






3 Pour chaque phrase, colorie en bleu la pendule qui indique la bonne heure.

– Zeus se réveille à 8 heures.





– Zeus lance des éclairs à midi.



– À 21 heures, le soleil se couche.



4 Observe le tableau et réponds aux questions.

Nom	Nombre de têtes 	Nombre d'yeux 
cyclope	1	1
Cerbère	3	6
humain	1	2


– Quel est celui qui a le plus de têtes ? .....

– Quel est celui qui a le moins d'yeux ? .....

– Combien Cerbère a-t-il d'yeux ? .....

5

Mesure avec ta règle et indique la taille de chaque monstre.  
N'oublie pas l'unité !



6

Observe le tableau et complète les cases vides.

Nom	Nombre de têtes	Nombre d'yeux
Hécatonchire	50	100
Cerbère	3	6
humain		
cyclope		

### ● Réponds aux questions.

- Qui a le moins d'yeux ? .....
- Qui a le plus d'yeux ? .....
- Qui a le plus de têtes ? .....