

## Apprentissage

Consigne : Complète la carte d'identité des 3 solides que tu as fabriqués ci-dessous ou bien sur ton cahier du jour.



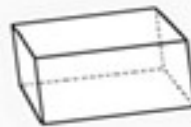
### Carte d'identité

Nom du solide : .....

Nombre de faces : .....

Nombre de sommets : .....

Nombre d'arêtes : .....




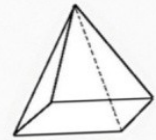
### Carte d'identité

Nom du solide : .....

Nombre de faces : .....

Nombre de sommets : .....

Nombre d'arêtes : .....



### Carte d'identité

Nom du solide : .....

Nombre de faces : .....

Nombre de sommets : .....

Nombre d'arêtes : .....

