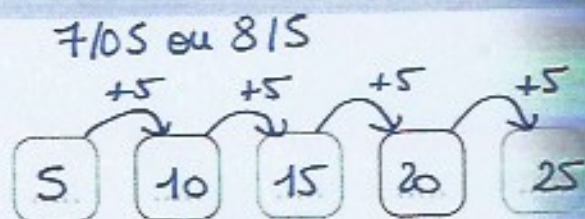


OBJECTIF : utiliser la technique de l'addition par sauts
pour calculer la somme de deux nombres.

Calcul mental

Jeu du furet de 5 en 5, en partant de 0 ou d'un
multiple de 5, en croissant ou en décroissant.

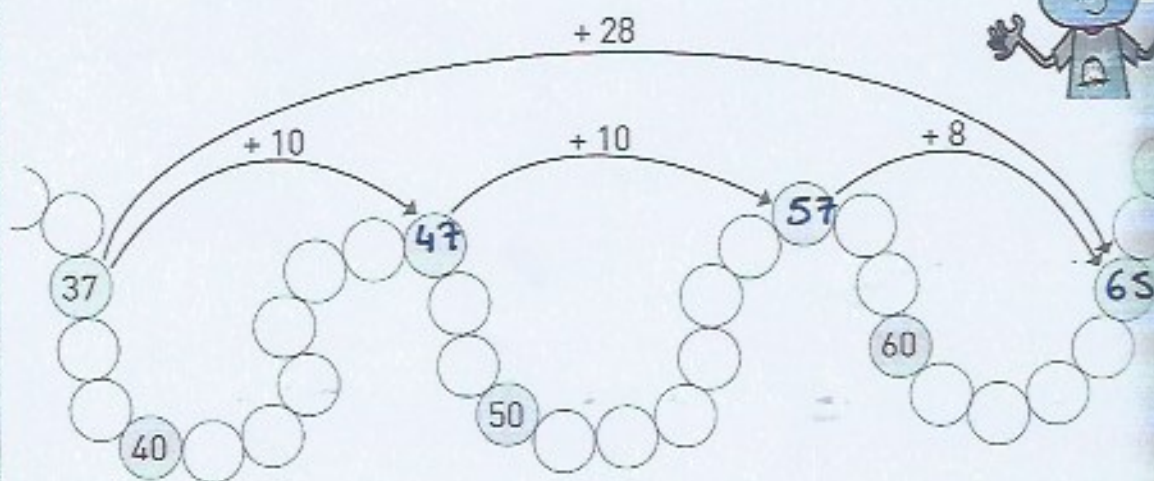
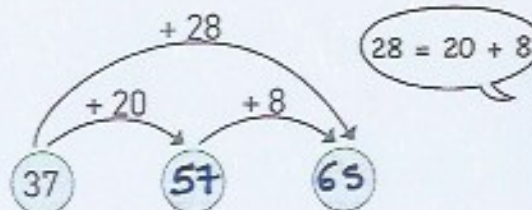
Découverte

1 Calcule : $37 + 28$

$$37 + 28 = 65$$

2 • Voici comment Paco trouve le résultat.
Écris les nombres dans les cases roses.

28 = 10 + 10 + 8

• Voici comment Jeanne
trouve le résultat.Écris les nombres
dans les cases roses.Complète : $37 + 28 = 65$...

Exercice

Calcule : $46 + 17$

$$46 + 17 = 63$$

$$46 + 10 = 56$$

$$56 + 7 = 63$$