



3 Pour chaque phrase, colorie en bleu la pendule qui indique la bonne heure.

– Zeus se réveille à 8 heures.





– Zeus lance des éclairs à midi.



– À 21 heures, le soleil se couche.



4 Observe le tableau et réponds aux questions.

| Nom | Nombre de têtes  | Nombre d'yeux  |
|---------|--|--|
| cyclope | 1 | 1 |
| Cerbère | 3 | 6 |
| humain | 1 | 2 |


– Quel est celui qui a le plus de têtes ? ...Cerbère a 3 têtes.

– Quel est celui qui a le moins d'yeux ? ...Le cyclope a 1 oeil.

– Combien Cerbère a-t-il d'yeux ? ...Cerbère a 6 yeux.

5

Mesure avec ta règle et indique la taille de chaque monstre.
N'oublie pas l'unité ! Ta mesure peut varier de 1 ou 2 mm.



6

Observe le tableau et complète les cases vides.

| Nom | Nombre de têtes | Nombre d'yeux |
|--------------|-----------------|---------------|
| Hécatonchire | 50 | 100 |
| Cerbère | 3 | 6 |
| humain | 1 | 2 |
| cyclope | 1 | 1 |

Réponds aux questions.

- Qui a le moins d'yeux ? Le cyclope a le moins d'yeux (1).
- Qui a le plus d'yeux ? Hécatonchire a le plus d'yeux (100).
- Qui a le plus de têtes ? Hécatonchire a le plus de têtes (50).