

Défi 10

$30 + 5 = \underline{35}$

$50 + 8 = \underline{58}$

$60 + 3 = \underline{63}$

$40 + 7 = \underline{47}$

$30 + 9 = \underline{39}$

$50 + 4 = \underline{54}$

B

Numération • Combien de perles Robotine a-t-elle ? (Ne compte pas les perles de son collier.)





Robotine a perles.

Recopie : _____

C

Géométrie • Colorie les pavés droits en orange et les cubes en vert.



A**Phonologie - Le son [ch]** • Écris le mot qui correspond sous chaque dessin.

une vache



un cheval



une mouche

B**Écriture** • Écris les lettres « ch », « le château » et « une ruche » en partant de chaque point.

ch

ch

le château

une ruche

C**Vocabulaire - Mots mêlés** • Les animaux de la ferme

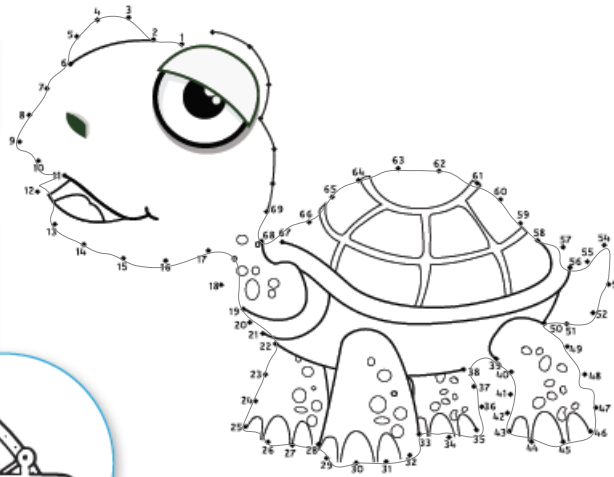
Retrouve les mots dans la grille, puis entoure l'intrus.

CANARD
CANETON
CHEVAL
CHÈVRE
COCHON
COQ
DINDONGIRAFE
MOUTON
OIE
POULE
POUSSIN
TAUREAU
VACHE

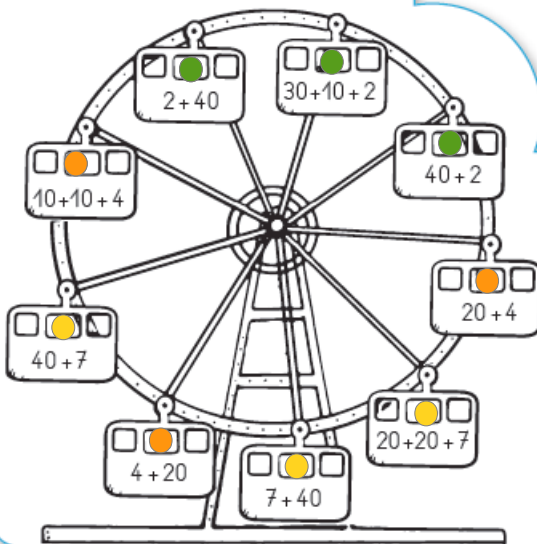
O	D	V	P	O	U	L	E	W	T	H	C	F	Y
C	H	E	V	A	L	D	I	N	D	O	N	R	A
V	O	V	C	L	E	P	R	M	Y	S	P	W	E
B	V	A	C	H	E	H	M	J	M	B	B	S	E
O	M	J	W	E	D	P	P	O	U	S	S	I	N
P	O	O	L	V	C	N	S	C	O	Q	O	C	M
M	O	U	T	O	N	C	A	N	A	R	D	E	W
C	H	È	V	R	E	M	X	N	P	R	L	P	C
F	M	Y	O	I	E	C	V	X	R	T	A	L	R
Y	W	R	A	G	I	R	A	F	E	N	Z	N	L
I	U	K	Y	N	C	A	N	E	T	O	N	Q	M
Z	F	C	O	C	H	O	N	V	V	R	W	Z	L
F	K	N	C	A	T	A	U	R	E	A	U	C	G
P	N	O	O	Q	O	F	L	N	E	D	Q	R	T

A**Numération**

Relie les nombres de 1 à 69.

**B****Calcul**

Colorie selon le code couleur.



24 orange

42 vert

47 jaune

**C****Résolution de problème** • Robotine fait des gâteaux.

Elle prépare 4 gâteaux à la fraise et 4 gâteaux à l'ananas.

Combien de gâteaux prépare-t-elle en tout ?

Ta recherche : $4 + 4 = 8$ Robotine prépare gâteaux.

Recopie : _____

