


PROBLEMES

CORRECTION

- 3 Thomas a acheté 3 pulls.
Dylan a acheté 4 pantalons.
Qui a dépensé le plus ?

Pose les opérations, puis réponds.



Schéma/ Calcul

Thomas	Dylan
$\begin{array}{r} 72 \\ \times 3 \\ \hline 216 \end{array}$	$\begin{array}{r} 54 \\ \times 4 \\ \hline 216 \end{array}$

Phrase réponse

Thomas et Dylan ont dépensé la même somme :
216 euros.

- 4 Une place de théâtre coûte 27 €.
M^{me} Bretin achète 9 places.
Combien va-t-elle payer ?




Schéma/ Calcul

$$\begin{array}{r} 27 \\ \times 9 \\ \hline 243 \end{array}$$

Phrase réponse

M^{me} Bretin va payer 243 euros.




Le géomètre



Pour mesurer, j'ai utilisé:

une
règle



Mon cahier mesure ...22 cm...

un
mètre



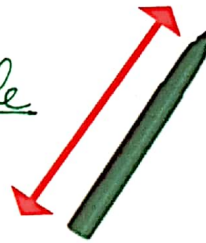
La porte mesure ...88 cm...



un mètre


Le télévision mesure ...93 cm...

une règle



Le feutre mesure ...13 cm...

un mètre



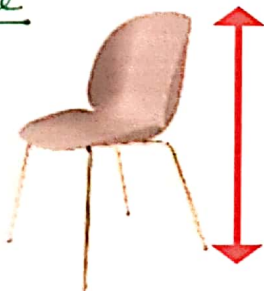
Mon lit mesure ...190 cm...
ou 1m 90 cm

un mètre




La table mesure ...180 cm...
ou 1m 80 cm

un mètre



La chaise mesure ...78 cm...

une règle



La fourchette mesure ...20 cm...