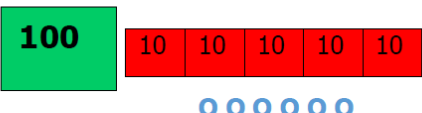

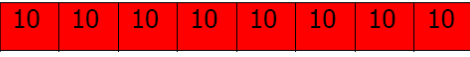



## Correction du problème 32

32) A la ferme, Emma voit 156 lapins, 87 poules et 16 tracteurs.

information inutile

**Combien d'animaux Emma voit-elle à la ferme ?**

Schéma :	<b>LAPINS :</b>	Calcul :
		$\begin{array}{r} 1 \\ 156 \\ + 87 \\ \hline 243 \end{array}$
	<b>POULES :</b>	
		

Phrase-réponse (sur le cahier du jour) : **Emma voit 243 animaux.**