

Correction jeudi 30 avril


1 Lis l'heure sur le cadran, puis écris l'heure, comme dans l'exemple.




Il est **5** heures.



Il est **9** heures.



Il est **1** heure.



Il est **10** heures.

2 Lis l'heure en toutes lettres, puis dessine les aiguilles sur le cadran de l'horloge.


Utilise
un crayon **vert**
et un crayon
rouge!




7 heures




5 heures



6 heures



11 heures



3 Entoure de la même couleur les montres qui indiquent la même heure.

