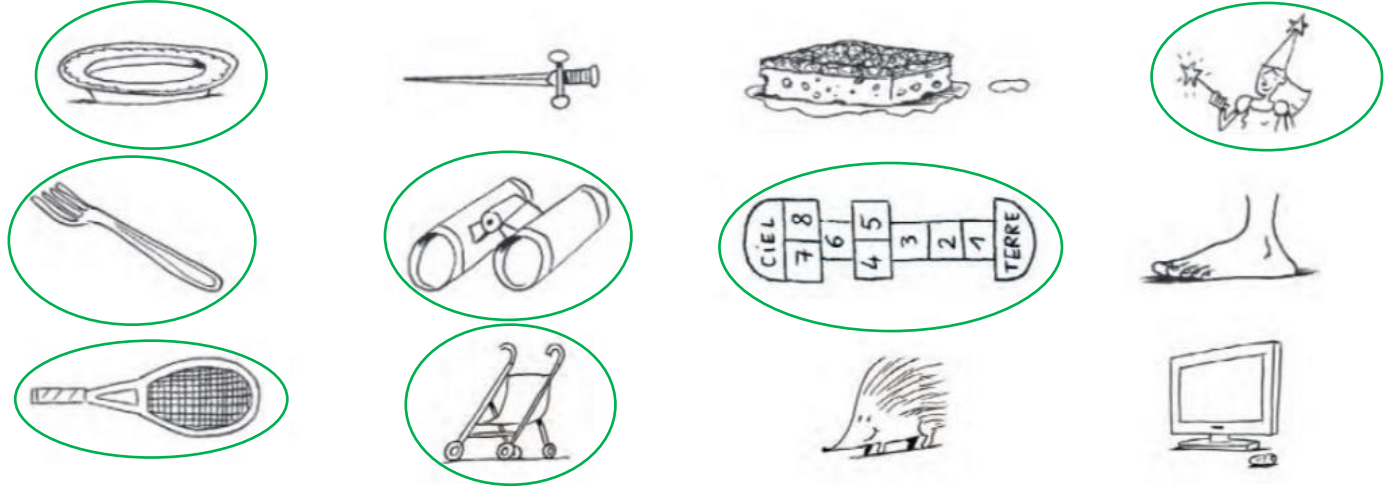


FRANÇAIS

J'entends

1 **Colorie** les dessins quand tu entends **è**.



Je vois

2 **Colorie** toutes les cases où le son **è** s'écrit **e**.

verte	le renard	le désert	la reine	chercher
un blaireau	le serveur	le renne	le tigre	une école
la maison	la baleine	le trésor	la dînette	belle
la maîtresse	le cheval	elle	l'haleine	une bête

3 Recopie les mots dans la bonne colonne.

une chandelle – demain – un cheval – une hirondelle –
un renard – un serpent – le miel – une chemise

 e et  e .	 e et  è .
demain un cheval un renard une chemise	une chandelle une hirondelle un serpent le miel

J'écris _____

4 Écris les mots sous les dessins.



la ferme



du miel



une perle



une veste



des lunettes



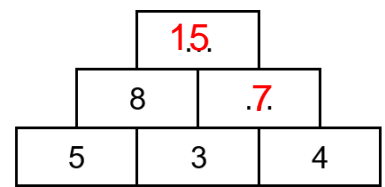
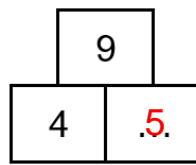
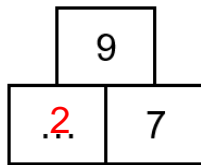
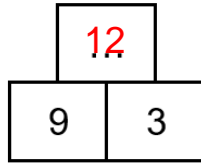
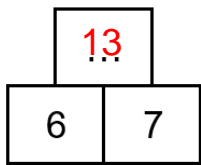
une brouette

5 Complète les phrases avec des mots en **ette**.

- Une petite fourche est une fourchette.
- Une petite boule est une boulette.
- Une petite statue est une statuette.

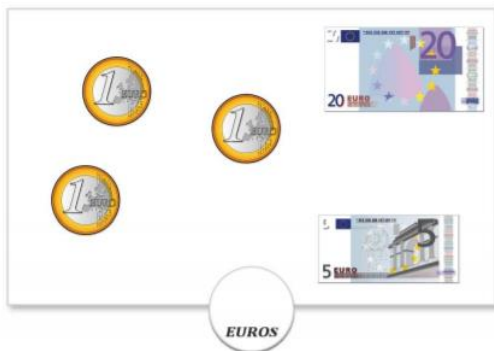
MATHEMATIQUES

1. Calcul mental : La pyramide



2. Mesures : La monnaie

– **Activité préalable** : Calcule la somme d'argent suivante :



28 €

Écris ton calcul :

$$20 + 5 + 1 + 1 + 1 = 28$$



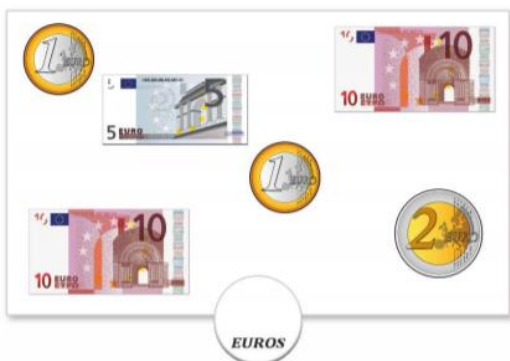
Astuce :

Commence par les plus grands nombres. C'est plus facile de calculer ainsi :

$20 + 5 + 1 + 1 + 1 = 23$ 28. Oups, je me suis trompée !

→ Tu as dû trouver 23 €. 28 €

– **Utilise cette astuce** pour calculer la somme d'argent suivante :



29 €

Écris ton calcul :

$$10 + 10 + 5 + 2 + 1 + 1 = 29$$

– Fichier Euromaths p 110 :



Découverte

Activité préparatoire : le jeu de la marchande.
Matériel : planches 3 et 4.



• Qui a raison ? *Lilou*

Explique ta réponse : *Lilou a 52 € et Taco a 38 €.*



• Qui a raison ? *Jeanne*

Explique ta réponse : *Ils ont tous les deux 43 €.*



Exercice



$$10 + 10 + 5 + 2 + 1 + 1 = 29$$



$$20 + 2 + 2 + 2 + 2 + 1 = 29$$

Écris chaque somme d'argent.


3. Problème (pour ceux qui veulent).



Pour son amoureuse, Loup achète un bouquet de fleurs qui coûte 12 €, et des chocolats qui coûtent 9 €.

Combien d'argent Loup dépense-t-il ?

Mon schéma :



9 €

Mon calcul :

...12 + 9 = 21


Ma réponse :

Loup dépense 21 €.

4. Reproduction sur quadrillage / tracés.

Reproduis la figure suivante :

- Compte bien les carreaux.
- Place bien ta règle pour tracer sur les lignes.

Utilise ta règle  et ton crayon de papier 