

FRANÇAIS



Un heureux événement

J'entends

1 Entoure les dessins quand tu entends **gn**.



2 Coche la case quand tu entends **gn**.



Je vois

3 Colorie tous les **gn** que tu vois dans ces phrases.

- De magnifiques cygnes s'éloignent de la berge.
- Le logo de cette compagnie est une fleur de magnolia.
- Je m'éloigne de ce lieu magnifique en compagnie d'Angélique.

4 Colorie les cases contenant les mots suivants.

- SIGNER GAGNER
- VIGNE CAGNOTTE
- GROGNE LIGNE
- CYGNE ARAIGNÉE

C	A	G	N	O	T	T	E	F	L	G
A	R	A	I	G	N	É	E	Z	I	R
V	I	G	N	E	Z	G	N	D	G	O
S	O	N	C	Y	G	N	E	N	N	G
T	R	E	F	J	A	R	T	O	E	N
A	B	R	S	I	G	N	E	R	P	E

5 Recopie les mots dans la bonne colonne.

des lasagnes – un gilet – une consigne – un genou –
un ogre – une châtaigne – la neige – une guêpe – une figure

 g et  gn.	 g et  j.	 g et  g.
des lasagnes une consigne une châtaigne	un gilet un genou la neige	un ogre une guêpe une figure

J'écris



6 Entoure le mot qui correspond au dessin.



du linge
des lignes



un signe
un singe



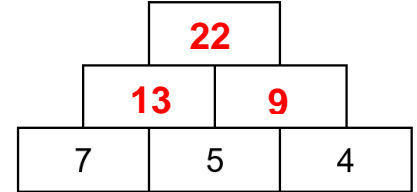
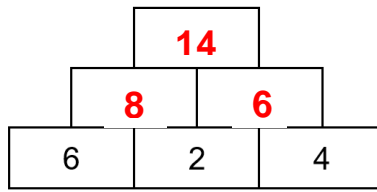
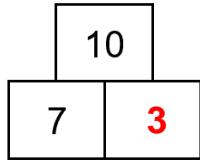
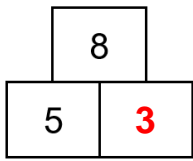
un anneau
un agneau

★ **7 Devinettes.**

- J'ai huit pattes et je tisse ma toile. Je suis l'araignée _ _ e.
- Dans un cahier, il faut écrire dessus. Nous sommes les lignes _ _ s.
- Il faut appuyer dessus pour ouvrir la porte. Je suis la poignée _ _ e.

MATHEMATIQUES

1. Calcul mental : La pyramide



2. Mesures : La monnaie

– **Activité préalable** : Calcule les sommes d'argent suivantes :



Écris ton calcul :

$$20 + 20 + 10 + 5 + 1 = 56$$



Écris ton calcul :

$$20 + 10 + 10 + 2 + 1 + 1 = 44$$

– **Fichier Euromaths p 111** :

Découverte

1

• **Combien** d'argent Jeanne a-t-elle ? ... **43** .. €

• Elle achète la flûte et le livre.
Combien dépense-t-elle ?
Combien lui reste-t-il ?

Jeanne dépense **41** .. € et il lui reste **2** ... €.

• $10 + 10 + 10 + 5 + 5 + 1 + 1 + 1 = 43$

• $28 + 13 = 41$

• $43 - 41 = 2$

ou : $41 + \dots = 43$

2



Combien manque-t-il à Lilou pour acheter le jeu ?


Il manque **4** € à Lilou.

1. Elle a 17 €.
 $10 + 5 + 1 + 1 = 17$

2. $17 + 4 = 21$



Exercice



Lucien a 40 €.
 Il achète le CD et le jeu de dominos.

Combien va-t-il dépenser ?

Combien lui reste-t-il ?

Lucien dépense **37** €. Il lui reste **3** €.


1. $19 + 18 = 37$

2. $40 - 37 = 3$
 ou : $37 + 3 = 40$

3. Reproduction sur quadrillage / tracés.

Reproduis la figure suivante :

- Compte bien les carreaux.
- Place bien ta règle pour tracer sur les lignes.
- Tu peux le colorier à la fin si tu veux.

Utilise ta règle  et ton crayon de papier 