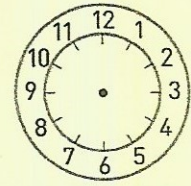
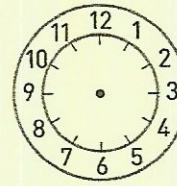
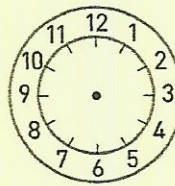


OBJECTIF : repérer les régularités lorsque l'on additionne ou soustrait une ou plusieurs dizaines.

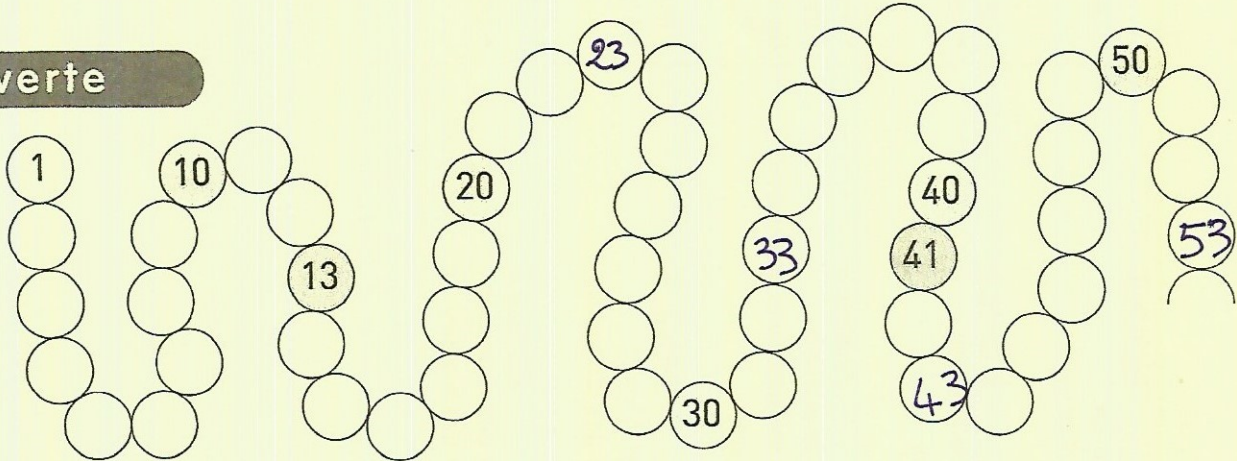


Calcul mental

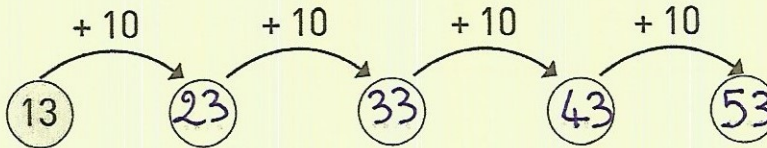
Lecture et écriture de l'heure.



Découverte



1 • Complète le schéma.



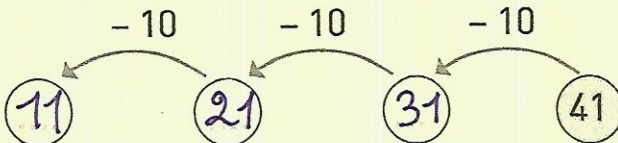
Vérifie sur la piste.

Complète : $13 + 10 + 10 + 10 + 10 = 53$

• Utilise ce résultat pour calculer : $13 + 40 = 53$

Ajouter 10 unités, c'est ajouter 1 dizaine.

2 • Complète le schéma.




Vérifie sur la piste.

Calcule : $41 - 10 = 31$ $31 - 10 = 21$ $21 - 10 = 11$

• Utilise ces résultats pour calculer : $41 - 30 = 11$

Retraire 10 unités, c'est retenir 1 dizaine.



Exercice

Calcule.

$58 + 10 = 68$	$39 + 10 = 49$	$24 + 20 = 44$	$40 + 20 = 60$
$58 - 10 = 48$	$39 - 10 = 29$	$24 - 20 = 4$	$40 - 20 = 20$