

Se familiariser avec les euros

Découverte

Activité préparatoire : le jeu de la marchande.
Matériel : planches 3 et 4.




Nous avons tous les deux la même somme d'argent.

Non, j'ai plus d'argent que toi.

• Qui a raison ? Lilou

Explique ta réponse :



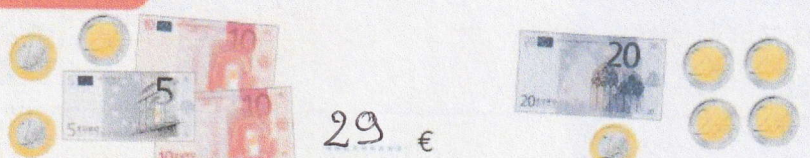
Nous avons tous les deux la même somme d'argent.

Non, j'ai plus d'argent que toi.

• Qui a raison ? Jeanne

Explique ta réponse :

Exercice



29 €

29 €

$10 + 10 + 5 + 2 + 1 + 1$

$20 + 2 + 2 + 2 + 2 + 1$


Écris chaque somme d'argent.

Problèmes : calculer avec les euros



Découverte

1





- **Combien** d'argent Jeanne a-t-elle ? 43 €
- Elle achète la flûte et le livre.
Combien dépense-t-elle ?
Combien lui reste-t-il ?

Jeanne dépense 41 € et il lui reste 2 €.

$$41 + ? = 43$$

2



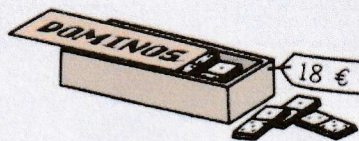
Combien manque-t-il à Lilou pour acheter le jeu ?

Il manque 4 € à Lilou.

$$17 + ? = 21$$



Exercice



- Lucien a 40 €.
Il achète le CD et le jeu de dominos.
Combien va-t-il dépenser ?
Combien lui reste-t-il ?

Lucien dépense 37 €. Il lui reste 3 €.

$$19 + 18 = 37$$

$$37 + ? = 40$$