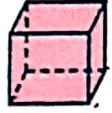
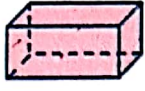



# Face, arête, sommet


Correction

## J'applique

1 Observe les solides, puis reproduis et complète le tableau.

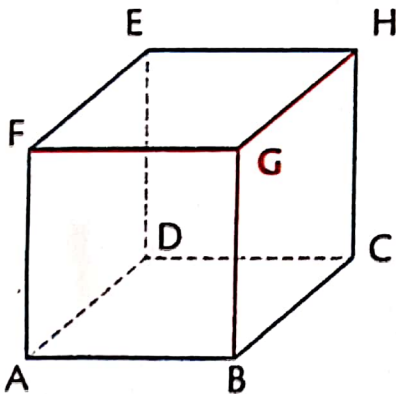
			
Faces	6	6	5
Sommets	8	8	5
Arêtes	12	12	8

2 Observe ce pavé droit, puis recopie et complète les phrases.



- Sur ce pavé droit, je vois  arêtes vertes.
- Je sais qu'un pavé droit a  arêtes en tout.
- Il y a donc  arêtes qu'on ne voit pas.

3 Observe ce cube : on a repassé en rouge les arêtes qui partent du sommet G.



Recopie et complète les phrases.

Les arêtes qui partent du sommet G sont GF, GB et G.H

Les arêtes qui partent du sommet A sont A.F., A.B et A.D.