

Prénom :



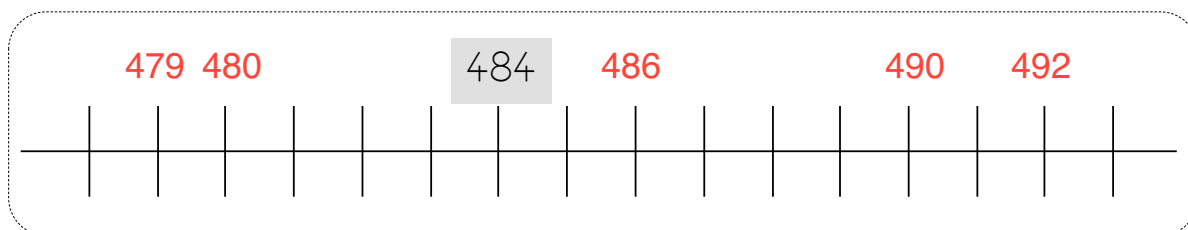
Numération

Fiche 1

Les nombres de 100 à 499

1 Place les nombres suivants sur la ligne graduée :

490 - 486 - 479 - 492 - 480



2 Relie les nombres écrits en chiffres à leur écriture en lettres.



117

495

333

430

215

trois-cent-trente-trois

deux-cent-quinze

cent-dix-sept

quatre-cent-quatre-vingt-quinze

quatre-cent-trente

3 Écris ces nombres en lettres.

416 : quatre-cent-seize




309 : trois-cent-neuf

290 : deux-cent-quatre-vingt-dix



4 Dessine le bon nombre de centaines, de dizaines et d'unités.

302



451

