




DÉCOUVRONS ENSEMBLE


- 1 Sur cette œuvre, la figure noire est un carré. Que dois-tu faire pour le vérifier ?



François Morellot, Négatif 11 d'après Steel life n° 11, 1990, 2010

Rose a reproduit le carré noir, mais certaines parties ont été effacées.

Trace-les. Utilise ta règle et ton équerre. Les côtés du carré doivent mesurer 4 cm.

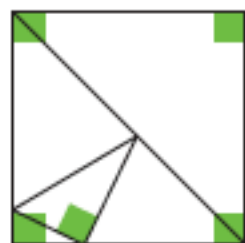


- 2 Repère 5 angles droits sur le modèle.

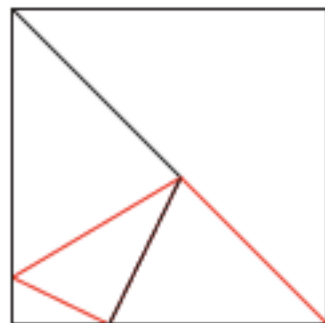
• Complète la figure J pour qu'elle soit un agrandissement de la figure modèle.



Utilise ta règle et ton équerre.



modèle



J

JE M'ENTRAÎNE

- 3 Termine la construction du rectangle de dimensions 3 cm et 5 cm.



Utilise ta règle et ton équerre.



> Exercices d'entraînement GUIDE

Objectif : utiliser la règle graduée pour tracer des segments de longueur donnée et l'équerre pour tracer les angles droits d'un carré et d'un rectangle

CALCUL MENTAL ► Multiplier par 20, 30... : dire un nombre < 10. Les élèves écrivent sur leur ardoise le nombre obtenu en multipliant le nombre dit par 20. Recommencer. Pour les 6 dernières fois, les élèves écrivent dans le fichier.