




CORRECTIONS : mardi 26 mai

MATHS :

44) Robin va au zoo avec sa classe. Dans sa classe il y a 27 élèves.
La maîtresse partage équitablement les élèves en 3 groupes.
Combien d'élèves y'a t-il dans chaque groupe ?

Schéma			Calcul(s)
Groupe 1	Groupe 2	Groupe 3	$9 + 9 + 9 = 27$
			Il y a 9 élèves dans chaque groupe.
9	9	9	

4 Écris la moitié de chaque nombre. Barre la case quand ce n'est pas possible.

4	5	16	25	27	40	42	100
↓	↓	↓	↓	↓	↓	↓	↓
2	...	8	20	21	50



5 Nora a 18 billes. Elle en donne la moitié à Jules. Combien de billes Jules reçoit-il ?

9 billes

La moitié de 18 est 9

18 est le double de 9

8 Écris la moitié de chaque nombre.

10	14	60	90
↓	↓	↓	↓
5	7	30	45

1 Dessine la moitié du nombre indiqué dans une case et l'autre moitié dans l'autre case.

6			→ La moitié de 6, c'est : 3
10			→ La moitié de 10, c'est : 5
8			→ La moitié de 8, c'est : 4
4			→ La moitié de 4, c'est : 2

2 Sur chaque guirlande, colore la moitié des lampions en jaune et l'autre moitié en bleu.

	→ La moitié de 12, c'est : 6
	→ La moitié de 14, c'est : 7

1 Écris la moitié de chacun de ces nombres.

La moitié de 6, c'est : 3
 La moitié de 8, c'est : 4
 La moitié de 10, c'est : 5

Pour trouver les moitiés, tu dois connaître les doubles.

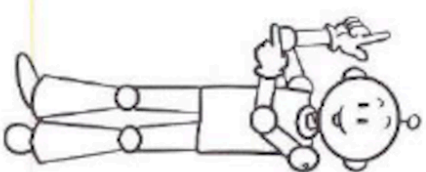
1+1=2
 2+2=4
 3+3=6
 4+4=8
 5+5=10
 6+6=12

2 Écris la moitié de chacun de ces nombres.

Nombres	12	2	14	18	20	16	4
Moitiés	6	1	7	9	10	8	2

3 Relie chaque nombre à sa moitié.

40	10	60	80	30	8	20
30	20	5	15	10	40	4



Conjugaison : le présent

Il a 6 grandes dents pointues, deux yeux et un gros nez. C'est le monstre A ...	Ils n' ont pas de pied et leur langue est sortie. Ce sont les monstres C et D	J' ai un seul œil, je suis le monstre B	Tu as deux cornes et deux ailes. Tu es le monstre E
---	---	--	---

Vous avez de grandes dents et vous avez des pieds. Vous êtes les monstres A .. et B ...	Tu as trois doigts aux mains et trois doigts aux pieds. Tu es le monstre A ...	Nous avons la bouche grande-ouverte, nous n' avons pas de pieds et nous tirons la langue. Nous sommes les monstres C ... et D
---	--	---

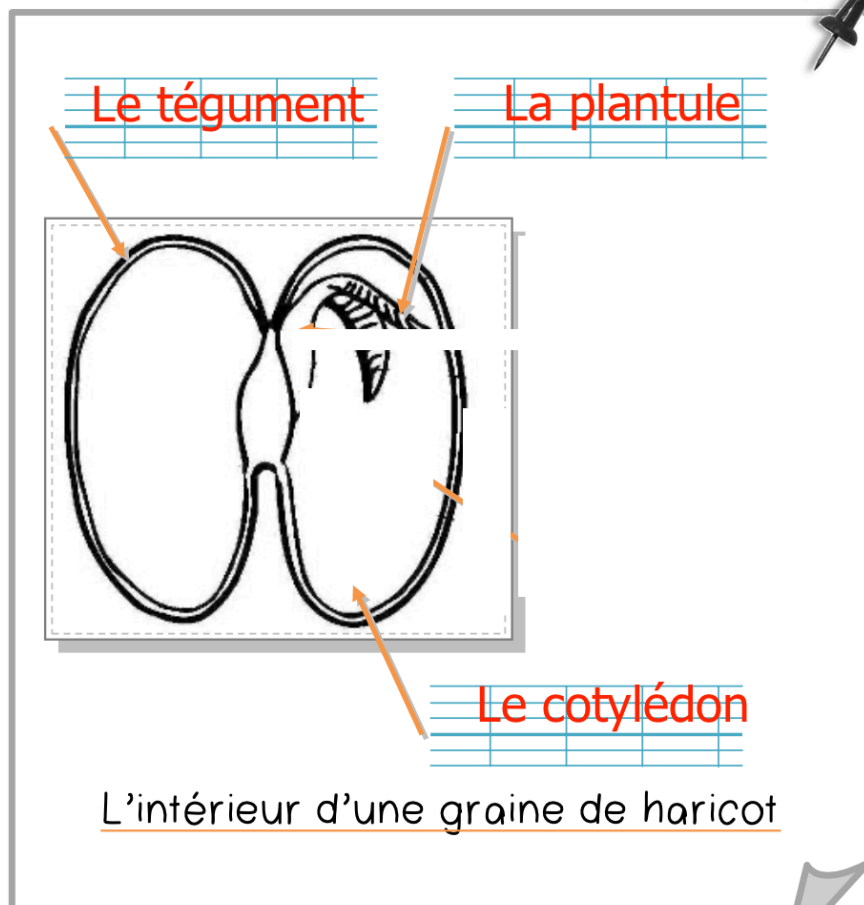
2) Dans chaque case, des mots sont soulignés. Ils correspondent à un verbe. Quel est l'infinitif de ce verbe ? C'est le verbe ...**AVOIR**.....

3) Retrouve les conjugaisons du verbe AVOIR dans le texte :

J'	ai
Tu	as
Il, elle	a
Nous	avons
Vous	avez
Ils, elles	ont

QLM : LA GERMINATION

1 J'observe le schéma de l'intérieur de la graine, et j'écris la légende en face de chaque flèche :



L'intérieur d'une graine de haricot