

## CORRECTIONS – LUNDI 23 MARS

### ● GRAMMAIRE – EXERCICES 3 et 4

EXERCICE 3 : Ecris le féminin des noms suivants :

- a) un américain : une **américaine**
- b) mon cousin : ma **cousine**
- c) un patient : une **patiente**
- d) un écrivain : une **écrivaine**
- e) ce passant : cette **passante**
- f) un Portugais : une **Portugaise**
- g) un invité : une **invitée**

EXERCICE 4 : Ecris le déterminant qui convient :

- a) La voisine : **le** voisin
- b) les olives : **l'**olive
- c) des poissons : **un** poisson
- d) une créature : **des** créatures

### ● DICTÉE

Mon frère demande à ma mère si on peut aller jouer avec les balles. Notre chien veut toujours venir avec nous. Mon père refuse car après, il est très sale quand il entre dans la maison.

1 Calcule de tête les opérations.

$25 + 75 = 100$     $50 + 150 = 200$     $68 - 45 = 23$     $73 - 20 = 53$     $55 - 33 = 22$

2 Au jeu de la centaine, voici ce qu'ont gagné les enfants :

$100 + 100 + 100$   
 $+ 100 + 10 + 5$

Liam : **415**

$100 + 40 + 5$

Rose : **145**

$500 + 40$

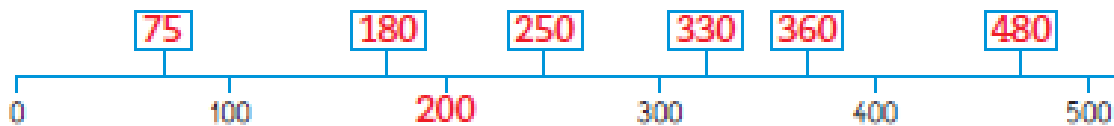
Nora : **540**

5 centaines  
et 4 unités

Jules : **504**

- Écris leur score.
- Qui a le plus de points ? **Nora**
- Range les scores du plus petit au plus grand :  **$145 < 415 < 504 < 540$**

3 • Quelle est la centaine qui suit 100 ? **200** • Écris ce nombre à sa place.



- Écris chaque nombre à sa place : **180** **360** **330** **75** **250** **480**

4 Calcule :

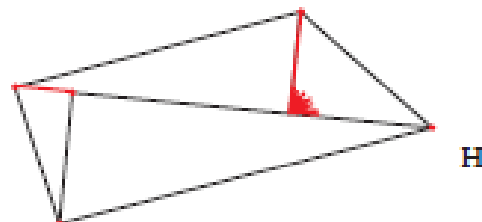
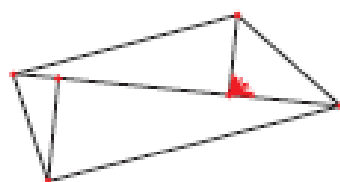
3	5		5	2		2	7	8		8	4	
-	1	2	-	2	7	-	1	7	5	-	4	8
<b>2</b>	<b>3</b>		<b>2</b>	<b>5</b>		<b>1</b>	<b>0</b>	<b>3</b>		<b>3</b>	<b>6</b>	

5 Repère les alignements et les angles droits sur la figure modèle.

Complète la figure H pour qu'elle soit un agrandissement du modèle.

Utilise ta règle et ton équerre.

modèle



# Compte et raconte !

## Les douze mois de l'année

### 1. Les douze mois autour du feu

Trouve 7 différences entre les deux images. Fais une croix sur chacune.



### 2. Que fait donc Maria ?

Pour le découvrir, relie les nombres de 10 en 10 à partir de 10.



### 3. L'horloge des mois de l'année

Complète l'horloge.




### 4. Les fruits de chaque saison


Dans chaque ligne, dans chaque colonne, il doit y avoir des fruits différents. Dessine les fruits qui manquent.

Au printemps : fraise, banane, cerise

En été : pêche, melon, prune, mure



• LECTURE :




# MATRIOCHKA

De Sandra Nelson et Sébastien Pelon

5

Qu'avait lu Tatiana dans les pensées de Baba Yaga ? Complète.

« Le ..... maléfice ..... disparaîtra, quand ..... un enfant,  
aux échecs, me vaincra. »



Quel est l'enjeu de la partie d'échecs ?

Si Vera gagne, elle aura la fortune de Baba Yaga.  
Si Baba Yaga gagne, elle mangera la fillette.

Qui gagne la partie d'échecs ?

C'est Vera qui gagne la partie d'échecs.



Que devient ensuite Baba Yaga ?

Elle disparaît.

Elle redevient jeune et belle.

Elle devient riche.

Qu'a-t-elle perdu ?

Sa fortune

Son isba

Sa beauté

Qu'offre Natacha à Baba Yaga ?



Natacha offre ses poupées à Baba Yaga.



# MATRIOCHKA

De Sandra Nelson et Sébastien Pelon

5\*



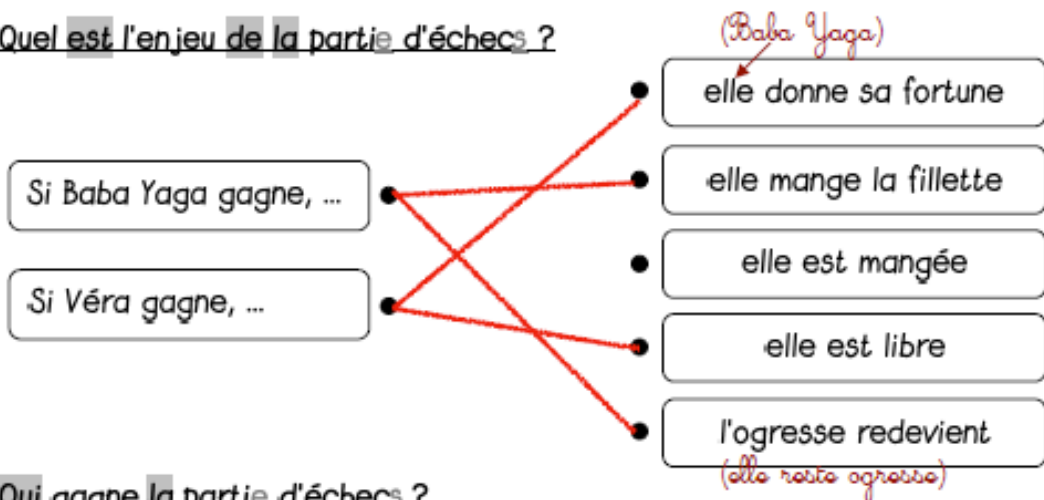
Qu'avait lu Tatiana dans les pensées de Baba Yaga ? Complète avec les mots :

vaincra - maléfice - échecs - enfant

« Le maléfice disparaîtra, quand un enfant avec échecs me vaincra. »



Quel est l'enjeu de la partie d'échecs ?



Qui gagne la partie d'échecs ?

C'est Véra qui gagne la partie d'échecs.



Que devient Baba Yaga ?

- Elle disparaît.
- Elle redevient jeune et belle.
- Elle devient riche.



Qu'a-t-elle perdu ?

- Sa fortune
- Son isba
- Sa beauté