

# CORRECTIONS LUNDI 27 AVRIL

## ● GRAMMAIRE :

Tout à coup, des cris réveillent Carméla.

Les indiens utilisent les plumes des poules.

Elle pond son premier œuf.

Dans la cachette, le petit coq mange du maïs.

Il parle beaucoup avec Carméla.


## ● DICTÉE :

En juin, il va avoir huit ans. En mai, il ne fait plus froid, nous allons faire des promenades à côté de mon village. Il adore être avec tes frères.

## ● MATHS =

**DÉCOUVRONS ENSEMBLE**

Jules et Nora ont des sachets de graines.



**1** Jules a 6 sachets de 3 graines.  
 $3 + 3 + 3 + 3 + 3 + 3 = 18$   
• Jules et Nora ont-ils le même nombre de graines ? **oui**

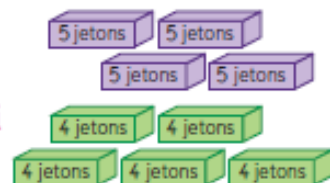
Nora a 3 sachets de 6 graines.  
 $6 + 6 + 6 = 18$


$3 + 3 + 3 + 3 + 3 + 3$  et  $6 + 6 + 6$  s'écrivent  $6 \times 3$  ou  $3 \times 6$ .

**ETAPE CORRIGÉE**

## JE M'ENTRAINE

- 3** Liam a les boîtes violette et Rose a les boîtes vertes.  
Complète :  $5 + 5 + 5 + 5 = 20$     $4 + 4 + 4 + 4 + 4 = 20$   
• Liam et Rose ont-ils le même nombre de jetons ? **oui**  
 $4 \times 5 = 5 \times 4 = 20$



- 4** Problème Nora a 4 paquets de 6 brioches chacun.   
Combien de brioches a-t-elle en tout ?

Ta réponse : **24 brioches**

Ton calcul :  **$6 + 6 + 6 + 6 = 24$**

- 5** Problème Jules a 5 pochettes. Chaque pochette contient 3 images. Combien d'images a-t-il en tout ?

Ta réponse : **15 images**

Ton calcul :  **$3 + 3 + 3 + 3 + 3 = 15$**

ETAPES  
CORRIGÉES

## DÉCOUVRONS ENSEMBLE

- 1** J'ai 25 images. J'en ai le double.
- Le double de 25, c'est  $25 + 25$ , c'est 2 fois 25  $25 + 25 = 2 \times 25 = 25 \times 2$ .
- Combien d'images Jules a-t-il ?  
**Ta réponse : 50 images**  
**Ton calcul :  $25 + 25 = 50$**   
 Le double de 25 est 50
- 2** J'ai 32 billes. J'en ai 2 fois plus que toi.
- Combien de billes Rose a-t-elle ?  
**Ta réponse : 64 images**  
**Ton calcul :  $32 + 32 = 64$**   
 Le double de 32 est 64

## JE M'ENTRAÎNE

- 3** Léa a une boîte de 40 jetons. Arthur en a deux fois plus. Combien de jetons Arthur a-t-il ?  
**Ta réponse : 80 jetons**  
**Ton calcul :  $40 + 40 = 80$**
- 4** Julia a 8 ans. Sa sœur, Clémentine, a le double de son âge. Quel est l'âge de Clémentine ?  
**Ta réponse : 16 ans**  
**Ton calcul :  $8 + 8 = 16$**
- 5** Calcule le double de chaque nombre.  
 le double de 10, c'est 20  
 le double de 15, c'est 30  
 le double de 30, c'est 60  
 le double de 50, c'est 100
- 6** Complète la table de multiplication par 2.

×	1	2	3	4	5	6	7	8	9	10
2	2	4	6	8	10	12	14	16	18	20



• QUESTIONNER LE MONDE

*Les animaux ont-ils tous la même nourriture ?*



1. Colorie en rouge les animaux qui mangent de la viande et en vert ceux qui mangent des végétaux.

2. Complète les phrases :

- L'oiseau mange des papillons, des insectes, des graines, des baies.
- La couleuvre mange des grenouilles.
- Le canard mange des poissons et des herbes
- La grenouille mange des insectes (libellule sur l'illustration)
- Le héron mange des grenouilles.
- L'escargot mange des feuilles, de la salade.
- Le papillon mange des fleurs (le nectar des fleurs).