

CORRECTIONS LUNDI 27 AVRIL

● GRAMMAIRE :

Tout à coup, des cris réveillent Carméla.

Les indiens utilisent les plumes des poules.

Elle pond son premier œuf.

Dans la cachette, le petit coq mange du maïs.

Il parle beaucoup avec Carméla.

● DICTEE :


En juin, il va avoir huit ans. En mai, il ne fait plus froid, nous allons faire des promenades à côté de mon village. Il adore être avec tes frères.

● MATHS

p 93

DÉCOUVRONS ENSEMBLE

Jules et Nora ont des sachets de graines.



1 Jules a **6** sachets de **3** graines.
 $3 + 3 + 3 + 3 + 3 + 3 = 18$
• Jules et Nora ont-ils le même nombre de graines ? **oui**

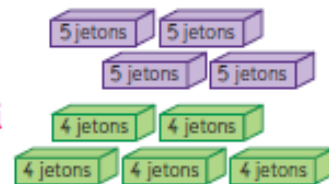
Nora a **3** sachets de **6** graines.
 $6 + 6 + 6 = 18$


$3 + 3 + 3 + 3 + 3 + 3$ et $6 + 6 + 6$ s'écrivent 6×3 ou 3×6 .

ETAPES CORRIGÉES

JE M'ENTRAÎNE

- 3** Liam a les boîtes violette et Rose a les boîtes vertes.
Complète : $5 + 5 + 5 + 5 = 20$ $4 + 4 + 4 + 4 + 4 = 20$
• Liam et Rose ont-ils le même nombre de jetons ? **oui**
 $4 \times 5 = 5 \times 4 = 20$



- 4** Problème Nora a 4 paquets de 6 brioches chacun. 
Combien de brioches a-t-elle en tout ?

Ta réponse : **24 brioches**

Ton calcul : **$6 + 6 + 6 + 6 = 24$**

- 5** Problème Jules a 5 pochettes. Chaque pochette contient 3 images. Combien d'images a-t-il en tout ?

Ta réponse : **15 images**

Ton calcul : **$3 + 3 + 3 + 3 + 3 = 15$**



ÉTAPE CORRIGÉE

DÉCOUVRONS ENSEMBLE

1

J'ai 25 images.



J'en ai le double.

Le double de 25, c'est $25 + 25$, c'est 2 fois 25 $25 + 25 = 2 \times 25 = 25 \times 2$.

Combien d'images Jules a-t-il ?

Ta réponse : **50 images**Ton calcul : $25 + 25 = 50$ Le double de 25 est **50**

2

J'ai 32 billes.



J'en ai 2 fois plus que toi.

Ta réponse : **64 images**Ton calcul : $32 + 32 = 64$ Le double de 32 est **64**

Combien de billes Rose a-t-elle ?

JE M'ENTRAÎNE

3

Léa a une boîte de 40 jetons. 

Arthur en a deux fois plus.

Combien de jetons Arthur a-t-il ?

Ta réponse : **80 jetons**Ton calcul : $40 + 40 = 80$

4

Julia a 8 ans. Sa sœur, Clémentine,

a le double de son âge.

Quel est l'âge de Clémentine ?

Ta réponse : **16 ans**Ton calcul : $8 + 8 = 16$

5

Calcule le double de chaque nombre.

le double de 10, c'est **20**le double de 15, c'est **30**le double de 30, c'est **60**le double de 50, c'est **100**

6

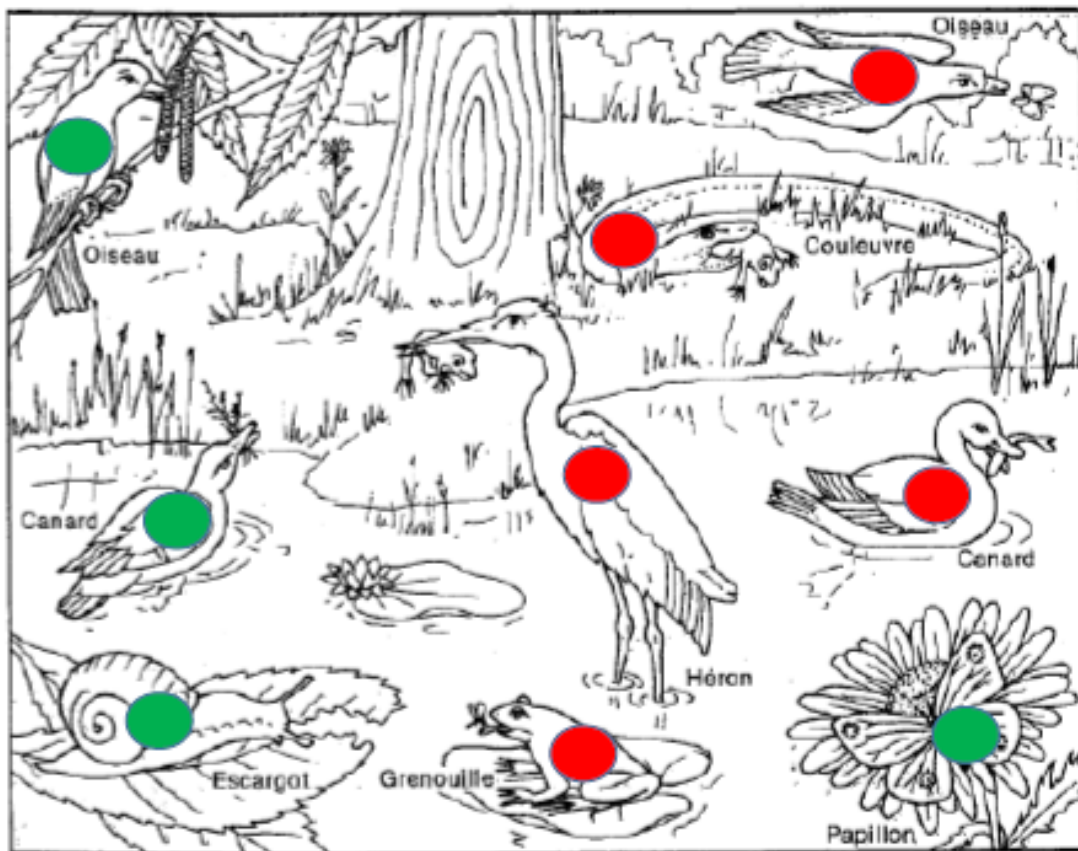
Complète la table de multiplication par 2.

\times	1	2	3	4	5	6	7	8	9	10
2	2	4	6	8	10	12	14	16	18	20



• QUESTIONNER LE MONDE

Les animaux ont-ils tous la même nourriture ?



1. Colorie en rouge les animaux qui mangent de la viande et en vert ceux qui mangent des végétaux.

2. Complète les phrases :

- L'oiseau mange des papillons, des insectes, des graines, des baies.
- La couleuvre mange des grenouilles.
- Le canard mange des poissons et des herbes
- La grenouille mange des insectes (libellule sur l'illustration)
- Le héron mange des grenouilles.
- L'escargot mange des feuilles, de la salade.
- Le papillon mange des fleurs (le nectar des fleurs).