

Correction fiche couverture Petite Poule :

1 Ecris les mots suivants au bon endroit :

le titre - l'auteur - l'illustration - l'illustrateur - l'éditeur



Auteur

Illustrateur

Titre

Illustration

Editeur

2 Décris la première de couverture.

--	--	--	--	--	--	--	--	--	--	--	--	--	--	--	--	--	--	--	--

3 Que signifie l'expression « aller se coucher comme les poules » ?

Se coucher toutes ensemble.


Se coucher tard.

Se coucher tôt.

Correction p.92 du fichier de maths :

DÉCOUVRONS ENSEMBLE

1 Relie chaque dessin au texte qui convient.



5 bouquets de 6 fleurs 1 bouquet de 5 fleurs et 1 bouquet de 6 fleurs 6 bouquets de 5 fleurs

• Combien de fleurs y a-t-il dans 6 bouquets de 5 fleurs ? **30 fleurs**


JE M'ENTRAÎNE

2 Entoure le dessin où il y a 5 groupes de 4 danseurs.



• Combien de danseurs y a-t-il sur le dessin entouré ? **20 danseurs**

3 Complète le dessin pour avoir 4 sacs de 3 billes.



• Combien de billes y a-t-il en tout ? **12**

4 Louise a 4 pièces de 2 € et 3 pièces de 1 €. Dessine les pièces qui manquent.



• Combien d'euros Louise a-t-elle ? **11 €**

• Services d'accompagnement 01 32 08

Grammaire :

lundi :

- Le facteur **apporte** deux lettres.
- Le voisin de Louis **viendra** l'aider à réparer sa voiture.
- Demain, je ne **pourrai** pas venir chez toi.

Mardi :

- 1/ La sorcière lance un sort.
- 2/ Le loup entre dans la maison de Mère-Grand.
- 3/ Le dragon crache du feu.

Fiche de compréhension n°7 :

LECTURE COMPREHENSION - 7

1) Le petit bonhomme passe au vert. Avant de traverser je regarde tout de même à droite et à gauche pour voir si une voiture arrive.

Où se passe l'action ?

Cela se passe sur un trottoir, devant un passage piéton.

2) Sonia et Lyne partent en courant voir la maîtresse.

Comme elle donne des bonbons, elles sont ravies.

Le mot « Elles » représente : Sonia et Lyne

Le mot « Elle » représente : La maîtresse

3) Il était une fois **un ogre** qui vivait dans un village en Italie.

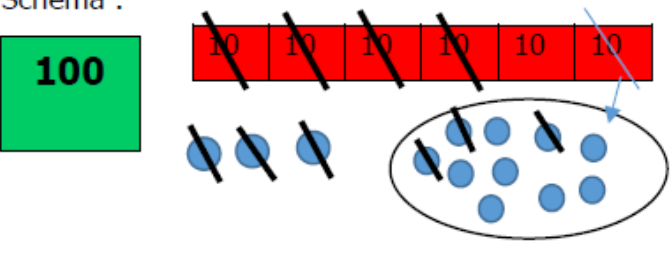
Il s'appelait Babborco. Ce géant dévorait les enfants.

Indique tous les mots qui désignent l'ogre :

Il, Babborco, ce géant.

Problème de maths n°33 :

33) Dans sa tirelire, Isaac a 163€. Il dépense 46€ pour acheter un cadeau à sa maman.
Combien d'argent lui reste-t-il dans sa tirelire ?

<p>Schéma :</p> 	<p>Calcul :</p> $\begin{array}{r} 1 \quad 6 \quad 10+3 \\ - \quad \quad 1+4 \quad 6 \\ \hline 1 \quad 1 \quad 7 \end{array}$
---	--

Phrase-réponse : **Il lui reste 117€ dans sa tirelire.**