

## CORRECTIONS POUR LE VENDREDI 15 MAI

### Orthographe :

#### Exercice n°1

Recopie les mots quand tu entends le son *ail*, *eil*, *euil* ou *ouil*.

une poulie - des nouilles - un travail - un carnaval - un treuil  
une truelle - une corbeille - une ombrelle

#### Exercice n°2

Réponds aux devinettes avec des mots qui se terminent par *ail* ou *aille*, *euil* ou *euille*, *eil* ou *eille*.

- Les arbres les perdent en hiver : les **feuilles**
- Les poissons en ont sur la peau : des **écailles**
- Un objet qui permet de se réveiller : un **réveil**
- Elles me servent à entendre : des **oreilles**
- Il fait peur aux oiseaux : un **épouvantail**

#### Exercice n°3

Ecris les mots pour chaque dessin :

● Avec *ail/aille* :



un éventail - une médaille

● Avec *eil/eille* :



une bouteille - un appareil (photo)

● Avec *euil/euille* :




un fauteuil - une feuille

### Problème de mathématiques :

42) Au musée de la mer, Jules observe les 3 aquariums à l'étage de poissons exotiques. Il compte 17 poissons dans chaque aquarium.

**Combien y'a-t-il de poissons y'a-t-il à cet étage ?**

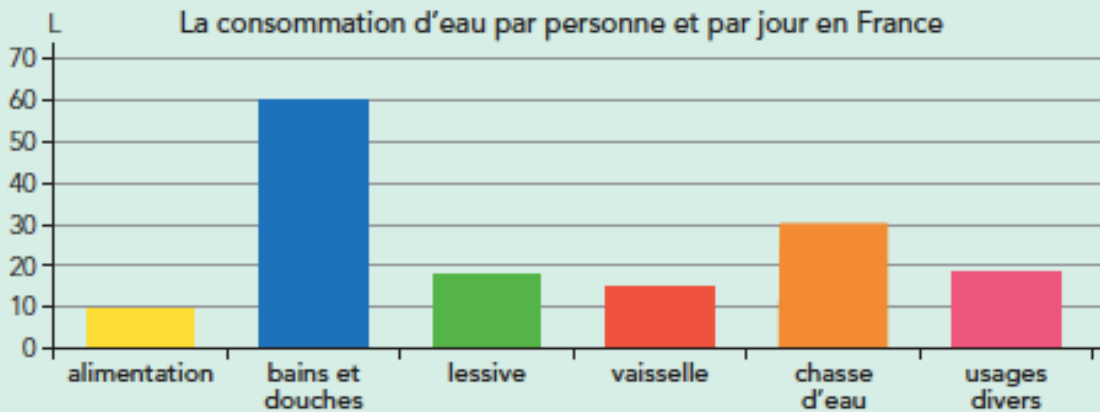
Schéma	Calcul(s)
	$3 \times 17 = 51$ $17 + 17 + 17 = 51$
Il y a 51 poissons.	



CALCUL MENTAL



DÉCOUVRONS ENSEMBLE

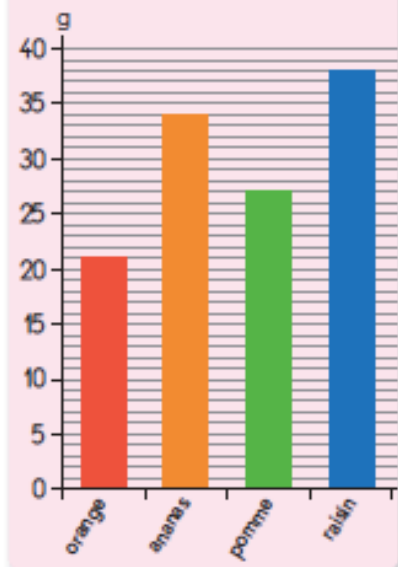


- 1 La droite verticale est graduée de **10** litres en **10** litres.
- Pour quel usage consomme-t-on le plus d'eau en France ? **les bains et douches**  
Écris la quantité d'eau correspondante : **60 litres**
  - Pour quel usage utilise-t-on moins de 10 L d'eau par jour ? **l'alimentation**

JE M'ENTRAÎNE


- 2 Pour obtenir un pur jus de fruit, on presse les fruits sans ajouter de sucre.
- 
- La droite verticale est graduée de **1** g en **1** g.
  - Quel jus de fruit contient le plus de sucre ?  
**le jus de raisin**  
Écris la quantité correspondante : **38 g**
  - Quel jus de fruit contient le moins de sucre ?  
**le jus d'orange**  
Écris la quantité correspondante : **21 g**
  - Quelle est la quantité de sucre dans un verre de jus d'ananas ? **34 g**
  - Dans quel verre de jus de fruit y a-t-il 7 g de moins de sucre que dans un verre de jus d'ananas ?  
**le verre de jus de pommes**

Quantité de sucre en g dans un verre de 25 cl de pur jus de fruit



> Exercices d'entraînement GUIDE

**Lecture :**



# La poule

Exercices  
Documentaire

1. Que mange la poule ?



La poule mange surtout des céréales mais adore les vers de terre, l'herbe et les petits cailloux. Elle est granivore.

2. Comment se déplace la poule ?

Elle marche ou elle court pour se déplacer.

3. Réponds par vrai ou faux ?

1- La poule peut voler .

Faux

2- La poule protège beaucoup ses petits.

Vrai

3- La poule est granivore.

Vrai



4. Pendant combien de temps la poule couve-t-elle ses œufs ?



La poule couve ses œufs pendant 3 semaines.

5. Comment s'appelle le poussin quand il a un mois ?

Quand il a un mois, le poussin s'appelle un coquelet.

6. Où vit la poule ?

Elle vit dans un poulailler.