

CORRECTIONS POUR LE VENDREDI 29 MAI

Orthographe :

Les valeurs de la lettre G

1/ Lis ces mots et recopie ceux où la lettre G se prononce [j].

Souligne la lettre qui suit la lettre G.

Un engin – la neige – une région – rouge.

2/ Lis ces mots et recopie ceux où la lettre G se prononce [g].

Souligne la lettre qui suit la lettre G.

un gâteu – une cigale – la guitare – le golf – gourmand.

3/ Ecris les mots correspondant à ces dessins :



.....ma glace.....



.....une règle.....



.....la girafe.....



.....le pigeon.....



.....les montagnes.....

4/ Recopie les mots et complète avec g ou gu :

un égout – un guidon – un garçon – une guitare

une vague – un gratin – un ouragan

Problème de mathématiques :

45) En sortant en récréation, Appoline a 187 billes. En revenant de la récréation, elle en a 215. **Combien de billes a-t-elle gagnées ?**

Schéma

Calcul(s)
 $215 - 187 = 28$
Ou $187 + 28 = 215$

Elle a gagné 28 billes.




CALCUL MENTAL



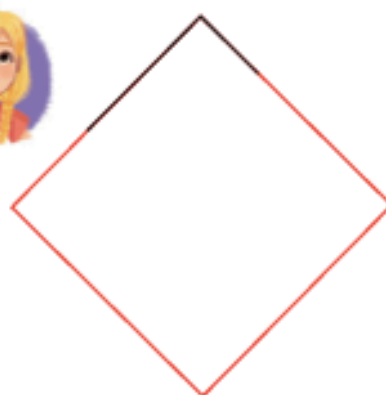
DÉCOUVRONS ENSEMBLE

1 Sur cette œuvre, la figure noire est un carré. Que dois-tu faire pour le vérifier ?



François Morellet, Négatif 11 d'après Steel life n° 11, 1990, 2010

Rose a reproduit le carré noir, mais certaines parties ont été effacées. Trace-les. Utilise ta règle et ton équerre. Les côtés du carré doivent mesurer 4 cm.

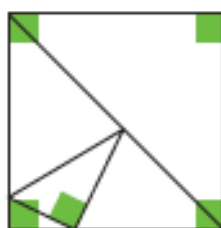


2 Repère 5 angles droits sur le modèle.

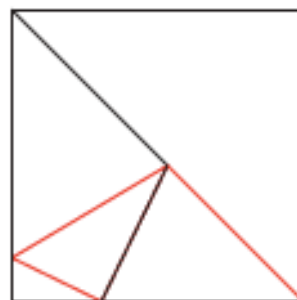
• Complète la figure J pour qu'elle soit un agrandissement de la figure modèle.



Utilise ta règle et ton équerre.



modèle



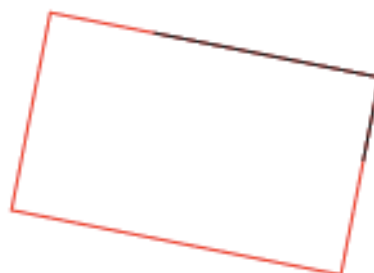
J

JE M'ENTRAÎNE

3 Termine la construction du rectangle de dimensions 3 cm et 5 cm.



Utilise ta règle et ton équerre.



> Exercices d'entraînement GUIDE

Objectif : utiliser la règle graduée pour tracer des segments de longueur donnée et l'équerre pour tracer les angles droits d'un carré et d'un rectangle

Calcul mental ► Multiplier par 20, 30... : dire un nombre < 10. Les élèves écrivent sur leur ardoise le nombre obtenu en multipliant le nombre dit par 20. Recommencer. Pour les 6 dernières fois, les élèves écrivent dans le fichier.