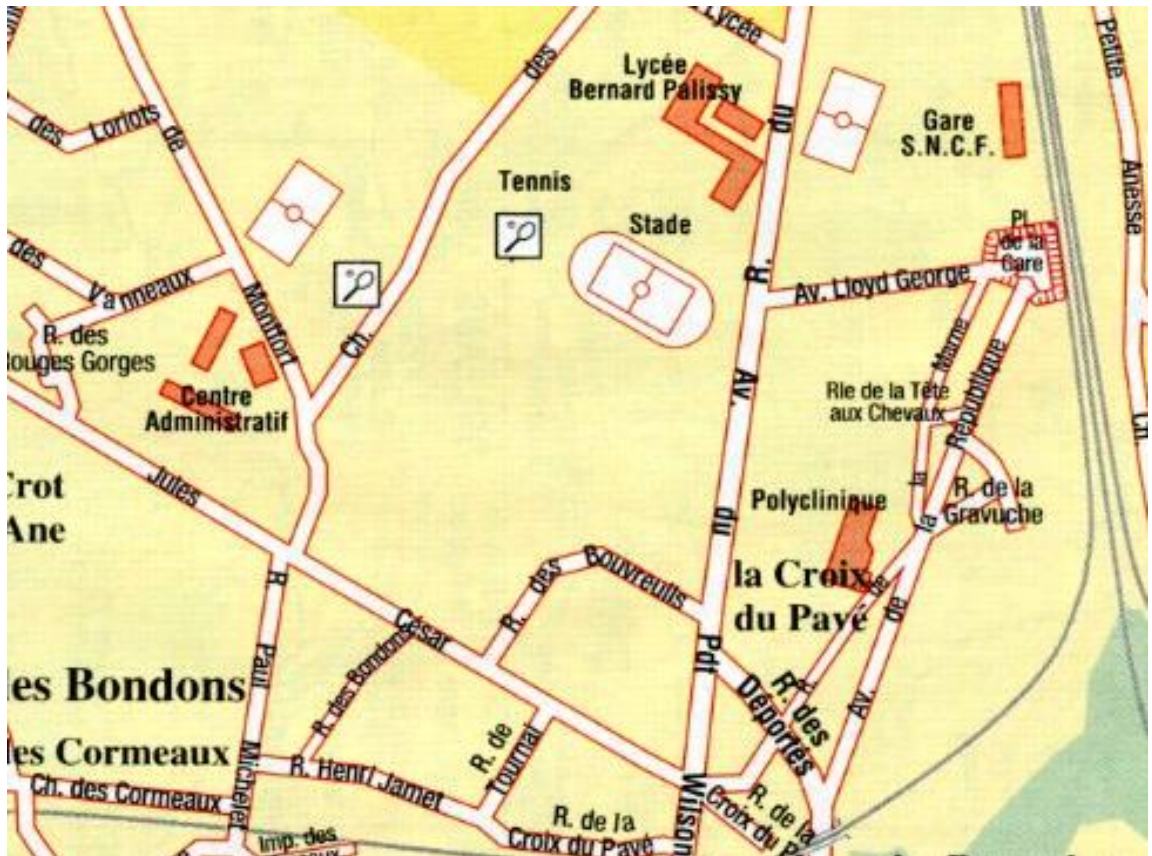


## Défi mathématiques CE1 n°3

**Circonscription  
Saran**

### Géométrie

1

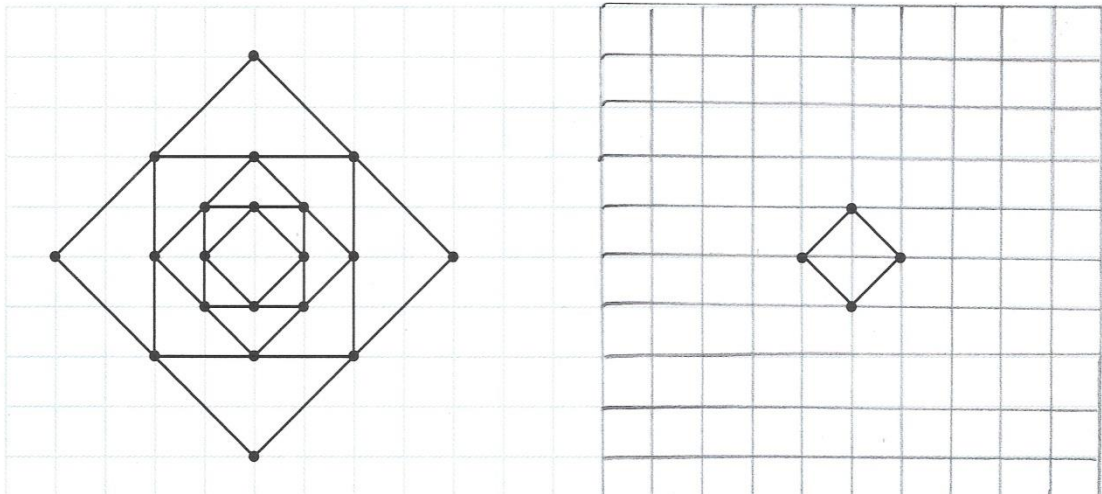


**Observez bien ce plan :**

- 1/ Combien vois-tu d'équipements sportifs (stade, terrains, tennis...) sur cette portion de plan ?
- 2/ Quel est le nom du quartier où se trouve la Polyclinique ?
- 3 / Par quelles rues peut passer Steven pour se rendre du centre administratif au lycée Bernard Palissy ? (Certains noms n'apparaissent pas entièrement sur la carte. Ne prends pas ces rues.)

2

Observe puis complète la figure




3

Images extraites de <http://orpheecole.com>


Trois enfants observent une coupe de fruits. Ils ont chacun un point de vue différent.




Trouver quelle image voit chaque enfant et inscrire le prénom correspondant sous la bonne image.



Point de vue de .....



Point de vue de .....



Point de vue de .....

