

DOCUMENTS POUR LE JEUDI 19 MARS

Ecriture :

J
J
Fabien
Flora

La cigale et la fourmi est mon poème préféré des
fables de La Fontaine.

Orthographe :

Le son j



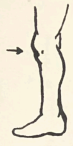






21



[3]



| | | | |
|--|--|---|---|
|  <p>g une girafe</p>  | <p>gentil une gifle un genou geler génial un géant germer un gilet des gens le gymnase</p>   | <p>manger ranger magique léger/légère agiter l'argent dangereux courageux</p> | <p>une cage une luge du fromage une orange la plage la neige un singe le village rouge sage</p>   |
|--|--|---|---|



| | | | |
|--|--|---|---|
|  <p>j la jupe</p>  | <p>une journée le journal jaune joli joyeux jamais du jus des jumelles le judo du jambon</p>   | <p>une jambe le jardin jeudi un jouet je joue un jouet le Japon juin juillet janvier</p>  | <p>toujours aujourd'hui bonjour déjà un pyjama une majuscule le déjeuner un bijou il ajoute</p>   |
|--|--|---|---|

D'un bourgeon sort un jour
Une jolie jacinthe.
Du jardin sort un jour
Un gentil jardinier.
Il porte la jacinthe
A son gilet.
C'est magique !

Mathématiques :

Lire l'heure

Sur cette horloge, on peut voir 2 aiguilles :

- ☐ La petite : elle indique **les heures**.
- ☐ La grande : elle indique **les minutes**.



Il faut 60 minutes pour faire une heure. Quand la grande aiguille fait un tour de cadran, la petite aiguille avance d'une heure.



La grande aiguille est sur le 12.

9 h 00
Il est neuf heures.



La grande aiguille est sur le 6.

10 h 30
Il est dix heures et demie.

- une demi-heure = 30 minutes
- une heure = 60 minutes



www.lutinbazar.fr



L'aiguille des heures avance très lentement, mais elle avance !



Il est 10 h 00 min.
(10 h pile)
La petite aiguille est exactement sur le 10.



Il est 10 h 30 min.
(10 h et demie)
La petite aiguille est à mi-chemin entre le 10 et le 11.

Les nombres écrits sur le cadran indiquent les heures.

Pour donner l'heure de l'après-midi, j'ajoute 12.

+ 12

| Le matin, je dis : | L'après-midi, je dis : |
|--------------------|----------------------------------|
| 1 h | 13 h |
| 2 h | 14 h |
| ... | ... |
| 11 h | 23 h |
| Midi (12 h) | Minuit (24 h → 00 h) |




Matin : 2 h 00 min.
Après-midi : 14 h 00 min.

www.lutinbazar.fr


ENTRAINEMENT - LIRE L'HEURE


1) Ecris l'heure qu'il est, comme dans l'exemple. Attention : **c'est le matin !**


Il est 7h30 ou 7:30


Il est _____



Il est _____



Il est _____



Il est _____



Il est _____


2) Ecris l'heure qu'il est. Attention : **c'est l'après-midi !**



Il est _____


Il est _____


Il est _____


Il est _____


Il est _____


Il est _____

3) Trace les aiguilles des horloges (l'aiguille des heures en rouge, celle des minutes en bleu).


Il est six heures et demie


Il est dix-huit heures



Il est vingt-deux heures trente


Il est neuf heures et demie


Il est une heure


Il est dix heures et demie


Il est vingt heures


Il est quatre heures et demie


Il est quinze heures trente