

DOCUMENTS POUR LE JEUDI 2 AVRIL

Autres documents nécessaires pour la journée non présents dans ce documents et fournis dans l'article :

- **lecture** : exercices du texte 1 de la petite poule qui voulait voir la mer avec 2 niveaux.
- **éducation morale et civique** : documentaire sur le Covid-19.

Orthographe :

Le son in











Orthographe (suite)


23





[ɛ̃]



 in un lapin 	un indien l'informatique interdit inventer un invité	quinze cinq cinquante vingt un singe	un dessin le jardin le matin des sapins un chemin un lapin	mon voisin enfin malin moins loin un coin
 im un timbre 	important impatient impossible l'imperméable un imbécile impoli	des timbres simple		
 ain la main 	ainsi	maintenant	demain soudain la main un train prochain	certain du pain un nain le bain un copain
 ein la peinture 		un peintre une ceinture éteindre	plein il peint un rein un sein	il éteint un frein il atteint il teint

 **yn**
un lynx
synthétique

 **ym**
des cymbales
les jeux olympiques
du thym

 **aim**
j'ai faim
un daim

Jouer Au requin
Qui attaque un dauphin
Quand on prend son bain !
Ce n'est pas malin,
Ce n'est pas malin
Mais...
Quand on a du chagrin,
Aller voir un copain
Pour rire jusqu'au matin,
Ça, c'est malin.
Car ça ira mieux demain.

Mathématiques :

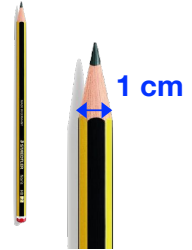

Grandeurs et mesures : les unités de longueurs

A savoir :

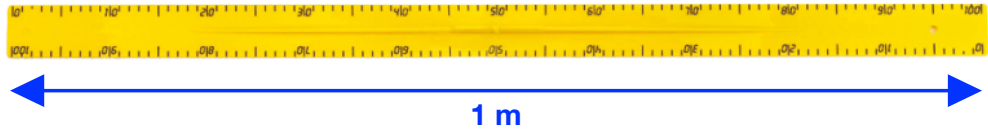
Pour mesurer une hauteur, une taille, une distance, on utilise les unités de longueurs suivantes :

le **centimètre (cm)**
le **mètre (m)**

- le centimètre : pour mesurer un petit objet, par exemple un crayon de papier. Tu vas pouvoir utiliser ta règle pour le mesurer.



- le mètre : pour mesurer un objet plus grande : **1 m = 100 cm.** Par exemple, la règle du tableau mesure 1 mètre.



Pour mieux comprendre...

1 coccinelle mesure environ...



1 centimètre (1 cm) de long.

1 guitare mesure environ...



1 mètre (1 m) de long.

Quand on dit :

$$100 \text{ cm} = 1 \text{ m}$$

Cela veut dire que si tu mets 100  les unes derrière les autres, c'est aussi long qu'1  !

Entraînement - les unités de longueurs

1 **Entoure** ce qui mesure plus de 1m.

La taille d'un adulte

la taille d'un bébé

la longueur du tableau de la classe

la longueur d'un bureau d'élève

2 **Entoure** ce qui mesure moins de 1cm.

L'épaisseur d'un dictionnaire

la longueur d'une fourmi

la longueur d'une queue de souris

l'épaisseur d'une pièce de 1€

3 Rayan peut emporter avec lui dans l'avion un instrument qui mesure moins d'un mètre. Lesquels peut-il choisir ?



102cm



31cm



185cm



18cm



67cm



59cm



200cm



131cm

Comparer des longueurs en m et en cm

1 **Barre** les réponses fausses.

• La longueur d'une mouche est de:

1 cm

1 m

• La hauteur d'une porte est de:

2 cm

2 m

• La longueur d'une gomme est de:

3 cm

3 m


• La hauteur d'une table est de:

70 cm

70 m

2 Le professeur d'Alex a mesuré 3 élèves:

	taille
Zoé	126 cm
Lisa	1 m 32 cm
Nanie	1 m 18 cm



• **Range** ces élèves du plus petit au plus grand:

• Nanie a une poupée qui mesure 80 cm. Elle dit que sa poupée est plus grande qu'elle.

Est-ce vrai ?

Pourquoi ?

• Alex mesure 2 cm de plus que Lisa. Combien mesure Alex ?