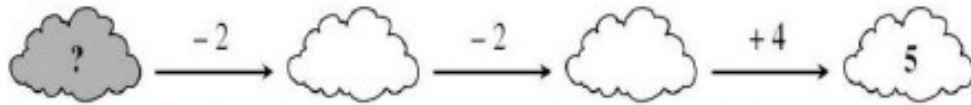


ENIGME MATHÉMATIQUE



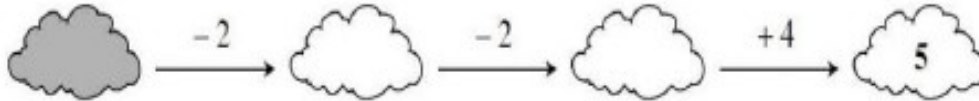
Force 1

La Tête dans les nuages



Quel nombre doit figurer dans le nuage gris pour que les trois calculs soient justes ?

Tes recherches, tes calculs



Ta phrase réponse

ENIGME MATHÉMATIQUE



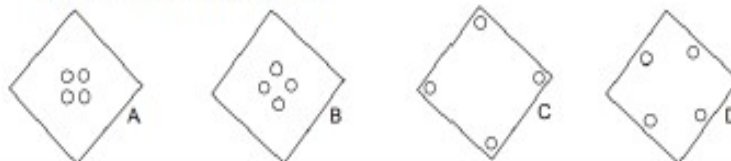
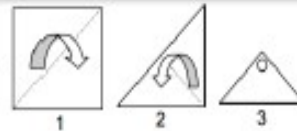
Force 1

Le Papier troué

Amélie Perfo s'amuse à plier un carré de papier puis à le trouser comme indiqué ci-contre.

Elle déplie ensuite son papier.

Qu'obtiendra-t-elle ? A, B, C ou D ?



Tes recherches, tes calculs

Ta phrase réponse