



Consigne 1 : Ecris ces nombres en chiffres.

huit-mille-cent-quarante-cinq	
quatre-mille-soixante-treize	
sept-mille-deux-cent-quatre-vingt-quinze	

Consigne 2 : Range ces nombres dans l'ordre décroissant.

7 654 – 9 087 – 5 477 – 5 706



Consigne 3 : Calcule rapidement.

$6 \times 3 \times 2 =$	$2 \times 2 \times 4 \times 5 =$



Consigne 4 : Compare : < ou >.

1 818 7 861

9 677 8 541

8 527 4 462

200 287

2 016 5 715

1 338 4 064

451 9 869

8 255 509

Consigne 5 :

1/Regarde la vidéo proposée dans le lien suivant :

<https://lesfondamentaux.reseau-canope.fr/discipline/mathematiques/grandeurs-et-mesures/mesures-de-longueur/convertir-du-m-au-mm-avec-des-entiers.html>


2/Réalise l'activité « découvrir » :

Découvrir

Maud et Tom effectuent des mesures dans la classe.

A. Ils mesurent le même meuble, mais avec des unités différentes.

Longueur = 20 dm Largeur = 6 dm



Hauteur = 100 cm

Longueur = 2 m Largeur = 60 cm



Hauteur = 1 m

• **Écris** l'égalité entre la mesure de la longueur faite par Maud et celle faite par Tom.

• **Utilise** ta réponse pour compléter l'égalité : $1 \text{ m} = \dots\dots\dots \text{ dm}$.


• **Écris** l'égalité entre les deux mesures de largeur.

• **Complète** : $1 \text{ dm} = \dots\dots\dots \text{ cm}$.

• **Écris** l'égalité entre les deux mesures de hauteur. $1 \text{ m} = \dots\dots\dots \text{ cm}$


B. Maud et Tom mesurent ensuite un cahier.

Largeur = 170 mm



Hauteur = 220 mm

Largeur = 17 cm



Hauteur = 22 cm

m	dm	cm	mm
2	0	0	0

$2 \text{ m} = 2\,000 \text{ mm}$


• **Écris** les égalités de largeur et de hauteur.

Largeur : $17 \text{ cm} = \dots\dots\dots \text{ mm}$. Hauteur : $\dots\dots\dots \text{ cm} = \dots\dots\dots \text{ mm}$.

• **Complète** l'égalité : $1 \text{ cm} = \dots\dots\dots \text{ mm}$.



3/ Lis la leçon jointe.



4/ Réalise les exercices suivants :

A/ Ecris les mesures dans le tableau (attention, il n'y a qu'un seul chiffre par colonne).

	m	dm	cm	mm
6 m				
7 cm				
39 cm				
80 mm				

B/ Complète (tu peux utiliser le tableau précédent):

8 cm = mm

90 mm = cm

7 cm et 9 mm = mm

4 dm = cm

90 cm = dm

7 m = dm