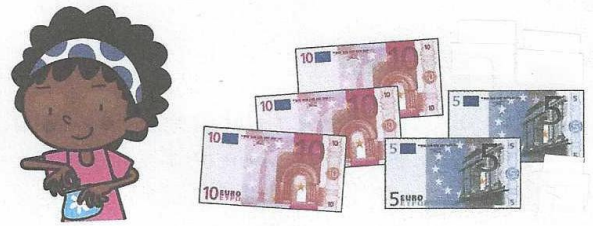


## Exercices "jeu de la marchande", page 111 du manuel

### Exercice 1


• Combien d'argent Jeanne a-t-elle?.....€



• Jeanne achète le livre et la flûte.

Combien dépense-t-elle ?

$$28 + 10 = \dots\dots\dots\text{€}$$




• Combien de monnaie lui rend la marchande ? .....

Fais un calcul de complément comme dans le jeu à l'oral ou dans l'encadré.



### Exercice 2



• Combien d'argent Lilou a-t-elle?.....€



• Lilou peut-elle acheter le jeu du poney? **oui**      **non**

• Combien lui manque-t-il ?.....€

Fais un calcul de complément à l'oral ou dans l'encadré.



### Exercice 3

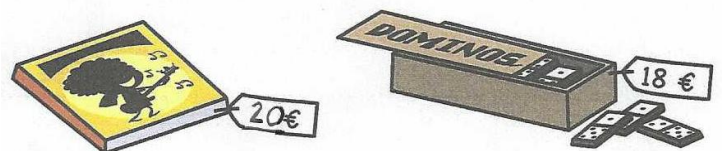
Lulu a 40 €.

Lulu achète le CD et le jeu de dominos.

Combien dépense-t-il ?

$$18 + 20 = \dots\dots\dots\text{€}$$

Combien de monnaie lui rend la marchande ? .....



Fais un calcul de complément comme dans le jeu à l'oral ou ans l'encadré.

