

Plan de travail du mardi 28 mars

En lien avec les vidéos youtube

Coche la case quand tu entends **in**.



--	--



--	--



--	--	--



--	--	--

Entoure le dessin quand tu entends le son demandé.

pin




din



min





trin



Recopie les mots dans la bonne colonne.

le prochain - une Américaine - la dizaine -
un copain - le lendemain - la fontaine

 ain et  in .	 ain et  in .

Écris les mots sous les dessins.

- **in** s'écrit **ain**



un _____



du _____

- **in** s'écrit **ein**



les _____



la _____

- **in** s'écrit **ain**



Il a _____.



un _____

- **in** s'écrit **in**



un _____



du _____

Remets les syllabes dans l'ordre pour écrire des mots.

• vain - é - cri l' _____

• tu - re - tein la _____

• fri - a - cain _____




Découverte

Pour calculer $25 + 36$, Lilou utilise le matériel du jeu de la dizaine.

Rappelle-toi :
10 unités
c'est 1 dizaine



25 c'est $20 + 5$ et
36 c'est $30 + 6$



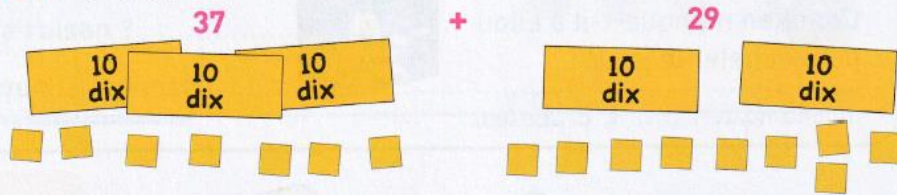
Lilou regroupe les unités pour former une dizaine : $5 + 6 = 10 + 1$

Elle regroupe les dizaines : $20 + 30 + 10 = \dots\dots\dots$

Complète : $25 + 36 = \dots\dots\dots$

Exercices

1 Calcule : $37 + 29$.



$37 + 29 = \dots\dots\dots$

2 Calcule : $28 + 25$.

$28 + 25 = \dots\dots\dots$