









Vendredi 15 mai

			
Le matin, la classe se termine à 11 h et demie.	Le premier service de la cantine est à midi.	L'après-midi, la classe se termine à 16 h 30.	Le car scolaire part à 5 h de l'après-midi.
			
..... : : : :

• Pour chaque moment, **trace** les aiguilles sur le cadran de l'horloge et **écris** l'heure en affichage numérique.



Exercice

Observe ce programme de télévision.

- **Souligne** en bleu les émissions du matin.
- **Souligne** en vert les émissions de l'après-midi.
- **Écris** l'heure du début du journal du soir.
- **À quelle heure** commence l'émission « La vie des animaux » ?

Affiche maintenant cette heure en plaçant les aiguilles sur l'horloge.

TV3		Le 5 avril
9 : 00	Dessins animés	
9 : 30	Journal	
14 : 00	La vie des animaux	
18 : 30	101 jeux	
19 : 30	Journal	

