



## Exercices mathématiques lundi 4 mai



80 se lit quatre-vingts, 90 se lit quatre-vingt-dix.

0	1	2	3	4	5	6	7	8	9
10					15	16			19
	21								
30				34					
					45				
50									
60			63	64		66	67		69

- **Continue** d'écrire les nombres qui sont dans la même colonne que 10.
- **Écris** tous les nombres qui sont dans la même ligne que 80.
- **Écris** les nombres dans les cases colorées.
- Pars de 8, avance de 10 en 10 et **écris** les nombres dans les cases où tu t'arrêtes.
- **Continue** d'écrire tous les nombres qui sont dans la même ligne que 90.
- C'est un nombre, il a 7 dizaines et 3 unités, **écris-le** ici ..... et dans le tableau.



### Exercice

- Pars de 72 et **écris** les nombres que tu obtiens en reculant de 1 en 1 jusqu'à 66.  
72 ..... 71 .....
- Pars de 99 et **écris** les nombres que tu obtiens en reculant de 10 en 10.  
99 ..... 89 .....


# Exercices mathématiques mardi 5 mai

**Découverte**

Activité préparatoire : rechercher les mots-nombres nécessaires pour dire les nombres jusqu'à 99. Les combiner pour composer des noms de nombres.

sept      vingt(s)  
 quatre      douze  
 soixante      dix

Avec 3 étiquettes je peux dire quatre-vingt-douze.



1 **Écris** le nombre de Jeanne en chiffres. ....

2 En utilisant au moins deux étiquettes, trouve trois nombres plus grands que 60. **Écris** ces nombres en lettres et en chiffres.

.....  
 .....  
 .....

3 **Entoure** les mots qu'on utilise pour dire le nombre 76.

six      seize      dix      sept      soixante

**Écris** en lettres le nombre 76 : .....

**Exercice**

Aide-mémoire p. 5

**Écris** en chiffres.

soixante-dix .....	quatre-vingts .....	quatre-vingt-dix .....
soixante-douze .....	quatre-vingt-un .....	quatre-vingt-onze .....
soixante-treize .....	quatre-vingt-trois .....	quatre-vingt-quatorze .....
soixante-quinze .....	quatre-vingt-cinq .....	quatre-vingt-dix-huit .....

cent vingt et un • 121