















CORRECTION




Exercices : se repérer sur un quadrillage

1) Donne le code des cases où se trouvent ces objets.

6								
5								
4								
3								
2								
1								
	A	B	C	D	E	F	G	H

 est en **B,5**  est en **E,6**.  est en **G,4**

 est en **D,3**  est en **F,2**  est en **H,1**





 est en **C,2**  est en **A,3**  est en **B,1**

2) Colorie en suivant les indications.

	A	B	C	D	E	F	G
1							
2							
3							
4							
5							
6							

- La case **B5** est coloriée en **noir**.
- La case **F5** est coloriée en **violet**.
- Les cases **D3** et **D4** sont coloriées en **rose**.
- Les cases **B2**, **C1**, **D1**, **E1** et **F2** sont coloriées en **rouge**.

3) Ecris les coordonnées de chaque objet.

	1	2	3	4	5
A					
B				x	
C					
D					
E					

x	B	4
○	D	2
□	C	3
♥	E	4
♣	A	2