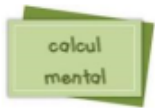




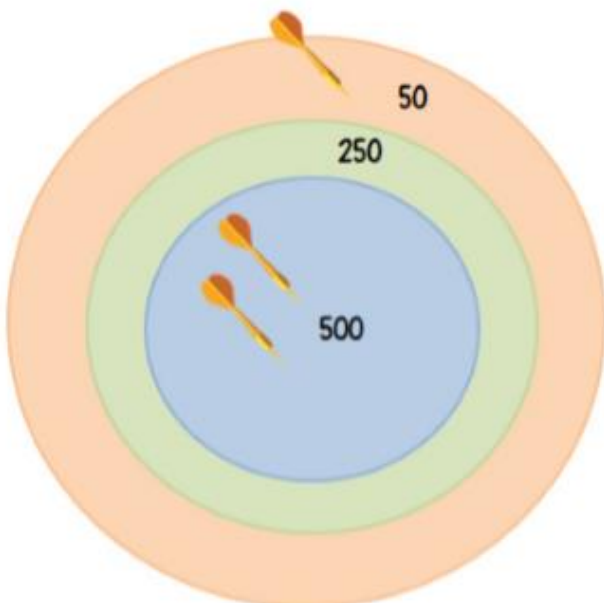
**Consigne 1 :** Compte de 100 en 100 de 2 476 jusqu'à 576.  
 Voir le diaporama



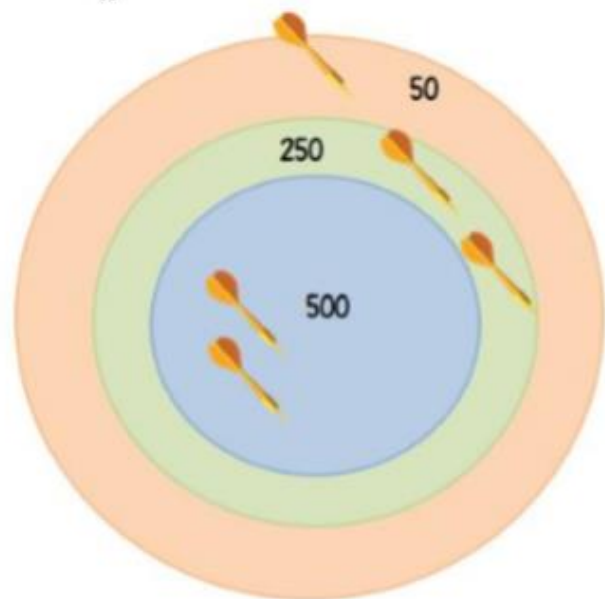
**Consigne 2 :** Jeu de la cible. **Trouve** où sont tombées les 3 fléchettes pour avoir le score affichée.

<b>800 =</b>	<b>1250 =</b>

**Consigne 3 :** Jeu de la cible. **Trouve** le score à partir de la position des fléchettes.



**Consigne 4 :** Jeu de la cible. Où va se trouver la dernière fléchette pour avoir le score affichée ? **Dessine-la** sur la cible.





## PROBLÈMES CE2 (3)

1

L'école compte 298 petits cahiers dans ses armoires. Pour préparer la rentrée, la directrice de l'école commande encore 1525 cahiers. **Combien de cahiers aura-t-elle à la rentrée ? Plus de 2000 ?**

Calcul/ Recherche

Phrase réponse:

.....

.....



## PROBLÈMES CE2 (3)

8

Les lampadaires dans la rue sont équipés de trois ampoules. **Combien faudra-t-il d'ampoules pour équiper les 25 lampadaires de la rue ?**

## Calcul/ Recherche

### Phrase réponse:

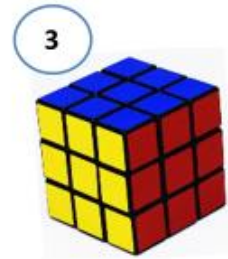
.....

.....



Comment classer les solides ?

Les solides
















Consigne : Classe les 6 solides dans le tableau. Ecris leur numéro.

Ceux qui roulent	Ceux qui ne roulent pas

**Consigne 5 :** *Fais ces 3 exercices sur les solides. Voir le diaporama*

**Reconnaître les solides**

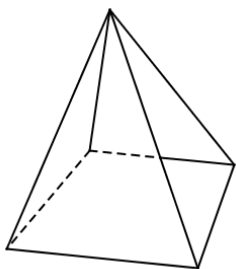
1/ Relie les objets au solide qui leur ressemble :

	•	•	
	•	•	
	•	•	
	•	•	
	•	•	
	•	•	
	•		

2/ Relie les objets à leur empreinte

	•	•	
	•	•	
	•	•	
	•	•	

**3) Complète.**



Nom du solide : .....
Nombre de faces : .....
Nombre de sommets : .....
Nombre d'arêtes : .....