

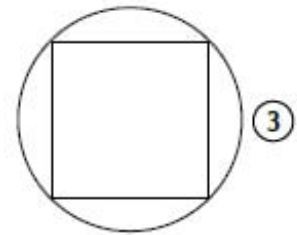
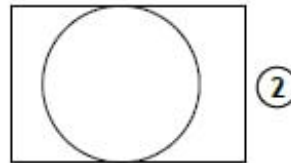
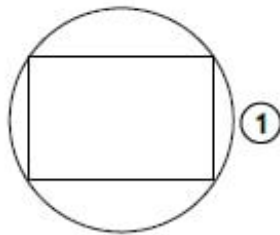
Nom :

Date :

Exercices

Décrire et reproduire des figures géométriques

1 Associe la figure et sa description.



Trace un carré à l'intérieur d'un cercle.



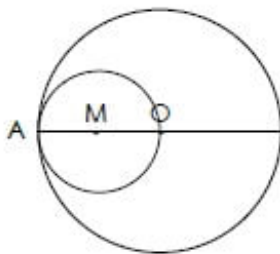
Trace un rectangle autour d'un cercle.



Trace un rectangle à l'intérieur d'un cercle.



2 Colorie la description correspondant à la figure.



Trace un Cercle de centre O et de rayon OM. Trace le cercle de centre M passant par O.



Trace un Cercle de centre O et de rayon OA. Trace le cercle de centre M de diamètre AO.



Trace un Cercle de centre M et de diamètre MA. Trace le cercle de centre O et de rayon AO.

3 Colorie la description correspondant à la figure.

Trace le triangle ABC. Place le point M sur le segment [AB]. Trace le segment [CM]



Trace un segment [AB] de 4cm. Place le point M milieu de [AB]. Trace le segment [CM]=4cm perpendiculaire à [AB]. Relie les points AC et BC



Trace deux triangles rectangles AMC et BMC placés dos à dos d'une hauteur de 4cm. M est l'angle droit et C la pointe.

