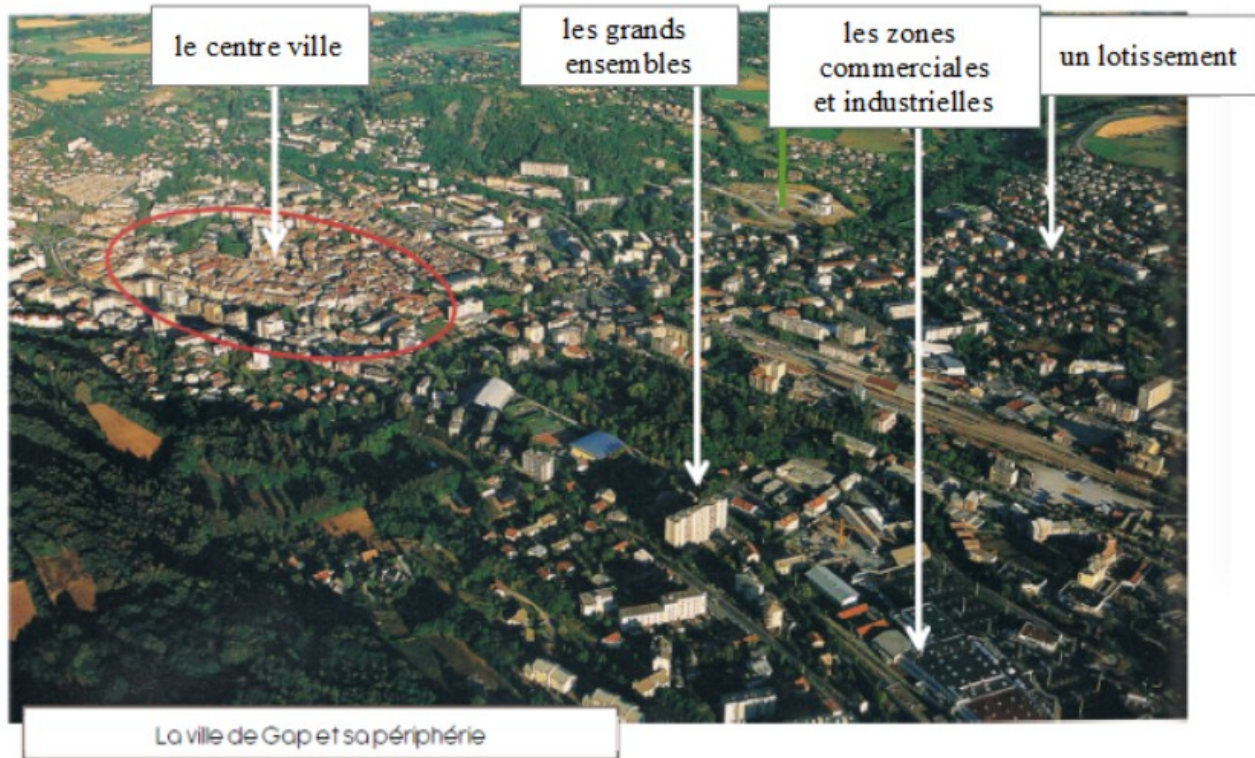


## Les grandes villes (paysage urbain) 4ème partie

1) Observe la photographie aérienne et lis le texte sur la croissance urbaine.

la croissance urbaine : l'agrandissement des villes au cours de l'histoire



### La croissance urbaine

Au XIXe siècle, les personnes qui venaient travailler à l'usine, venaient de la campagne alors elles ont construit des maisons près de l'usine. Elles espéraient trouver une meilleure vie. Les campagnes commencent à se vider, c'est l'exode rural.

La croissance des villes a été provoquée par la création des usines. Pour loger les nouveaux arrivants, on construit des petites maisons et les vieux quartiers sont rénovés. Alors, les villes s'étendent de plus en plus.

Les moyens de transport collectifs (train, tramway, métro) et l'utilisation des voitures se sont développés. Les gens peuvent, aujourd'hui, vivre plus loin du centre ville et de nouvelles zones commerciales et industrielles éloignées sont construites.

**rural** : adj. qui désigne la campagne, contraire de l'adjectif urbain

**exode rural** : n. m. le mouvement d'une population qui quitte la campagne pour aller s'installer en ville.

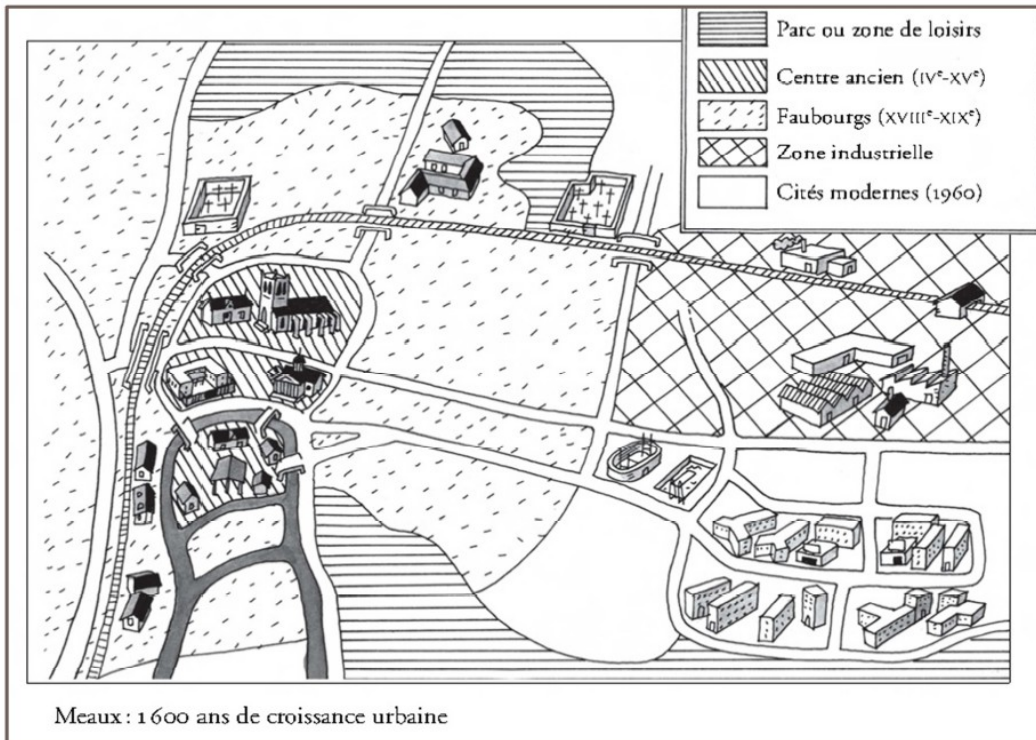
2) Explique pourquoi les villes ont tendance à devenir plus grandes ?

.....

.....

.....

3) Colorie la légende et reporte les couleurs sur la carte.



4) Complète la leçon avec les mots suivants.

habitations – loin du centre – loisirs – ancien

### Le centre-ville :

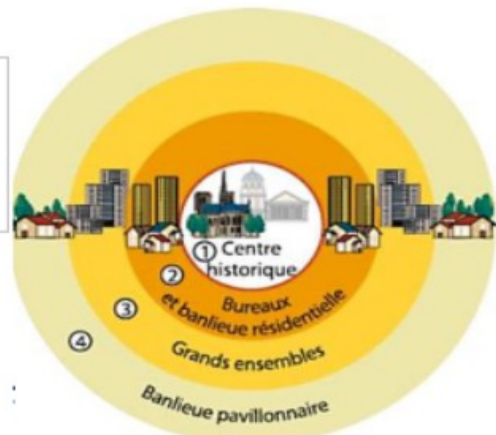
- ♦ Les \_\_\_\_\_ sont anciennes : maisons individuelles et immeubles anciens.
- ♦ Les lieux de travail : les bureaux sont souvent installés dans les quartiers historiques et prestigieux dans de beaux immeubles anciens.
- ♦ Le centre historique : c'est le quartier le plus \_\_\_\_\_ .

## La périphérie :

- ♦ C'est l'espace construit ou non, situé \_\_\_\_\_ d'une ville.
- ♦ Les **habitations** : les grands ensembles et les lotissements avec jardins.
- ♦ Les **lieux de travail** : les usines et zones industrielles, les zones commerciales.
- ♦ Les \_\_\_\_\_, **la culture** : les complexes sportifs, les grands cinémas ...

On peut représenter l'organisation des villes avec un un schéma :

### **la ville et sa banlieue**



5) Pour valider tes connaissances, réalise la learningapps suivante :  
<https://learningapps.org/view2160854>