





Les moitiés

1 Dessine la moitié du nombre indiqué dans une case et l'autre moitié dans l'autre case.


6  → La moitié de 6, c'est : 3

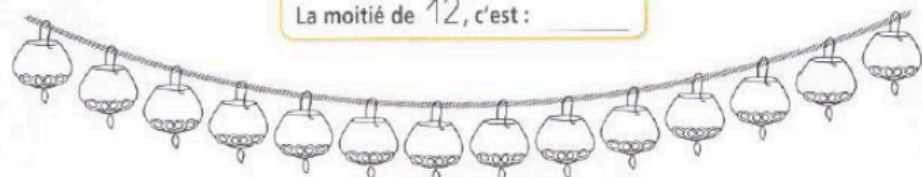
10  → La moitié de 10, c'est : _____

8  → La moitié de 8, c'est : _____

4  → La moitié de 4, c'est : _____

2 Sur chaque guirlande, colorie la moitié des lampions en jaune et l'autre moitié en bleu.

 → La moitié de 12, c'est : _____

 → La moitié de 14, c'est : _____

1 Écris la moitié de chacun de ces nombres.

La moitié de 6, c'est : _____

La moitié de 8, c'est : _____

La moitié de 10, c'est : _____

Pour trouver les moitiés, tu dois connaître les doubles.

1 + 1 = 2
2 + 2 = 4
3 + 3 = 6
4 + 4 = 8
5 + 5 = 10
6 + 6 = 12



2 Écris la moitié de chacun de ces nombres.

| Nombres | 12 | 2 | 14 | 18 | 20 | 16 | 4 |
|---------|----------------------|----------------------|----------------------|----------------------|----------------------|----------------------|----------------------|
| Moitiés | <input type="text"/> | <input type="text"/> | <input type="text"/> | <input type="text"/> | <input type="text"/> | <input type="text"/> | <input type="text"/> |

3 Relie chaque nombre à sa moitié.

40 10 60 80 30 8 20

30 20 5 15 10 40 4

