





Activités ritualisées

Combien de dizaines dans ...

987 ? ► .....

704 ? ► .....

7 002 ? ► .....

			
mille	centaine	dizaine	unité
M	C	D	U

Calcul mental

Calcule sans poser:

847 - 841 = .....

363 - 361 = .....

776 - 772 = .....

298 - 295 = .....

359 - 354 = .....

589 - 581 = .....

*Axe pour t'aider à calculer:*



**Résolution de problèmes**

1/ Dans le champ, l'agriculteur a ramené 36 nouveaux moutons. Maintenant, son troupeau compte 125 moutons au total.

**Combien de moutons avait-il au départ ?**

Schéma/ Calcul/Opération	Phrase réponse

