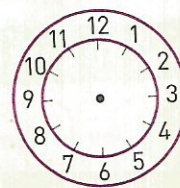
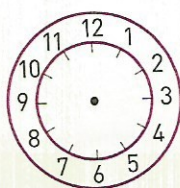


OBJECTIF : repérer les régularités lorsque l'on additionne ou soustrait une ou plusieurs dizaines.

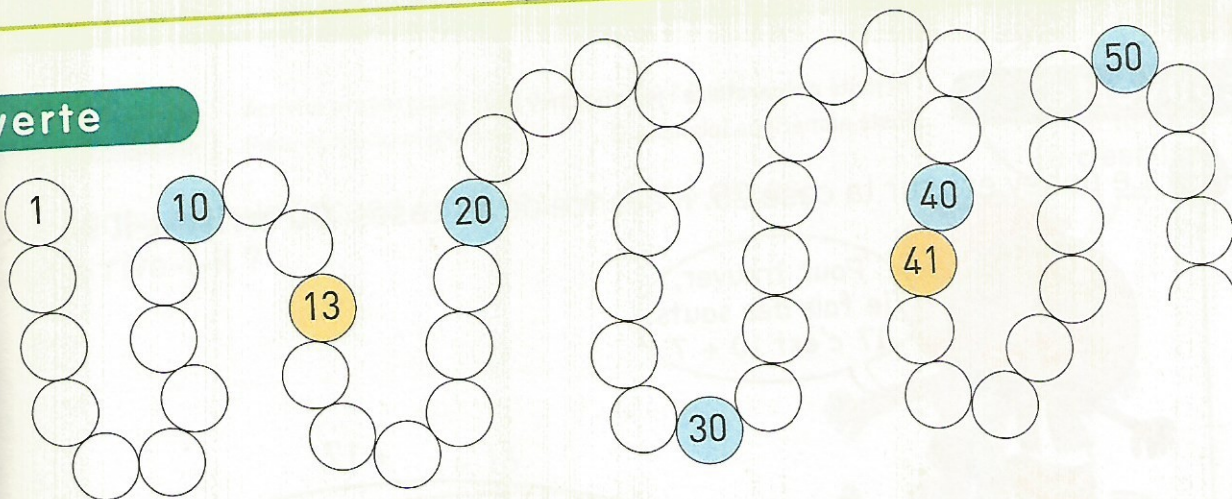


Calcul mental

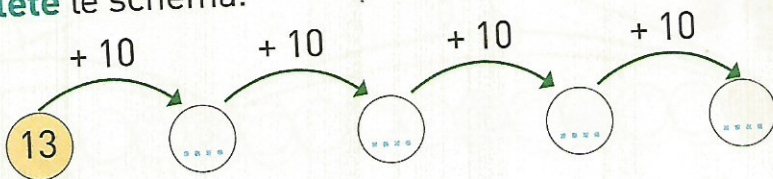
Lecture et écriture de l'heure.



Découverte



1 • Complète le schéma.



Vérifie sur la piste.

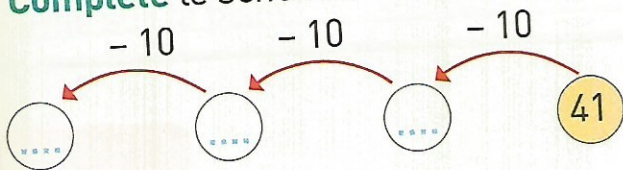
Complète : $13 + 10 + 10 + 10 + 10 = \dots\dots$

• Utilise ce résultat pour **calculer :** $13 + 40 = \dots\dots$

Ajouter 10 unités, c'est ajouter 1 dizaine.



2 • Complète le schéma.



Vérifie sur la piste.

Calcule : $41 - 10 = \dots\dots$

$31 - 10 = \dots\dots$

$21 - 10 = \dots\dots$

• Utilise ces résultats pour **calculer :** $41 - 30 = \dots\dots$

Retraire 10 unités, c'est retrancher 1 dizaine.

Exercice

Calcule.

$58 + 10 = \dots\dots$

$39 + 10 = \dots\dots$

$24 + 20 = \dots\dots$

$40 + 20 = \dots\dots$

$58 - 10 = \dots\dots$

$39 - 10 = \dots\dots$

$24 - 20 = \dots\dots$

$40 - 20 = \dots\dots$