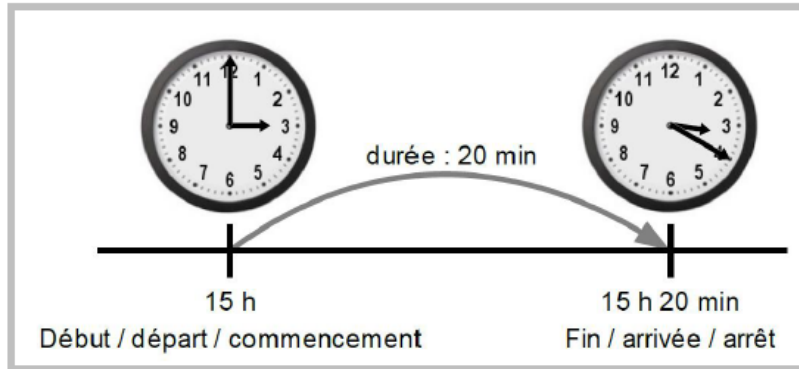
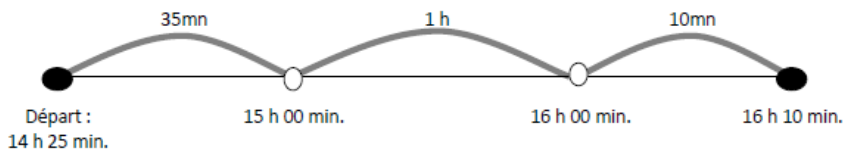


- ❑ Une montre ou une horloge indiquent l'heure du moment, on dit l'**instant**.
- ❑ Calculer une **durée**, c'est calculer la différence entre deux instants : le début et la fin de l'évènement.



Exemple : Monsieur Dupuis est parti à 14h25, il arrive à 16h10. Combien de temps a-t-il roulé ?




$$1 \text{ h} + 35 \text{ min.} + 10 \text{ min.} = 1 \text{ h } 45 \text{ min.}$$

Monsieur Dupuis a roulé 1h 45 min.



Entraîne-toi!

Maxime arrive à la piscine à 14h00 et repart à 16h10. Combien de temps est-il resté à la piscine?



Léa va au cinéma. Le film commence à 19h30 et se termine à 20h45. Quelle est la durée du film?

