

CE2

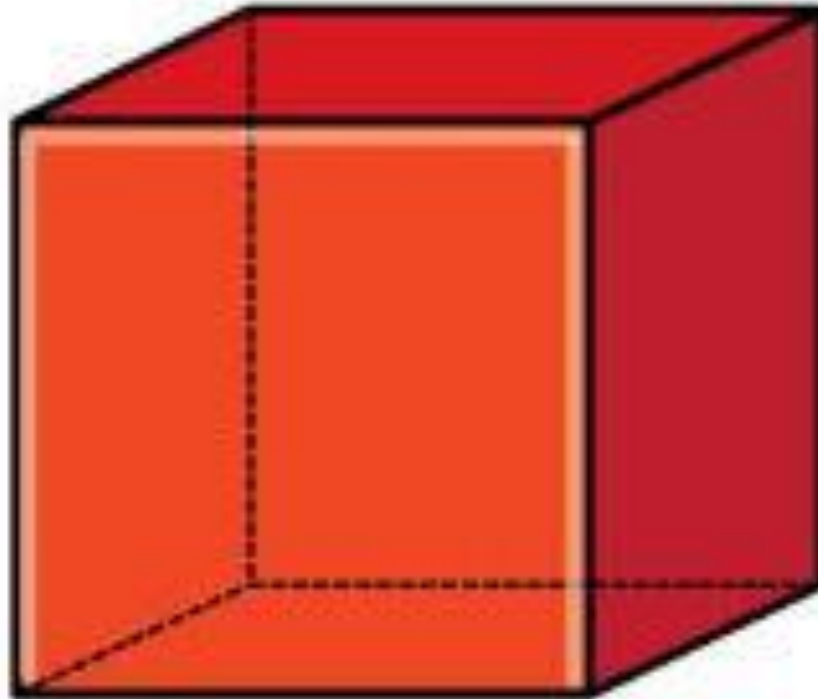
Module 20

Séance 8 du
Lundi 15 juin

Activité
ritualisée

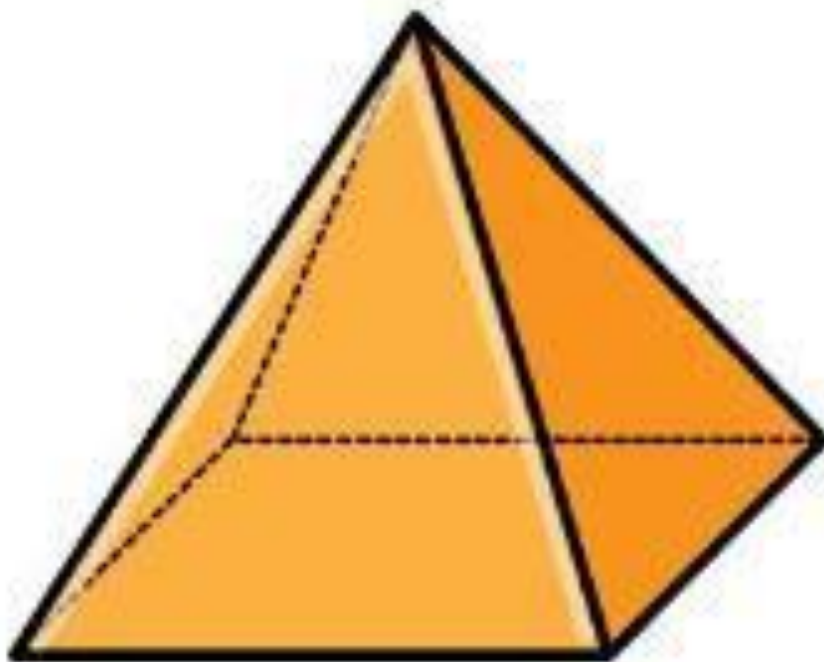
A faire sur la fiche d'exercices ou le cahier du jour

Séance 8 Consigne 1. Observe les solides.
Ecris le nom du solide et son nombre de faces.



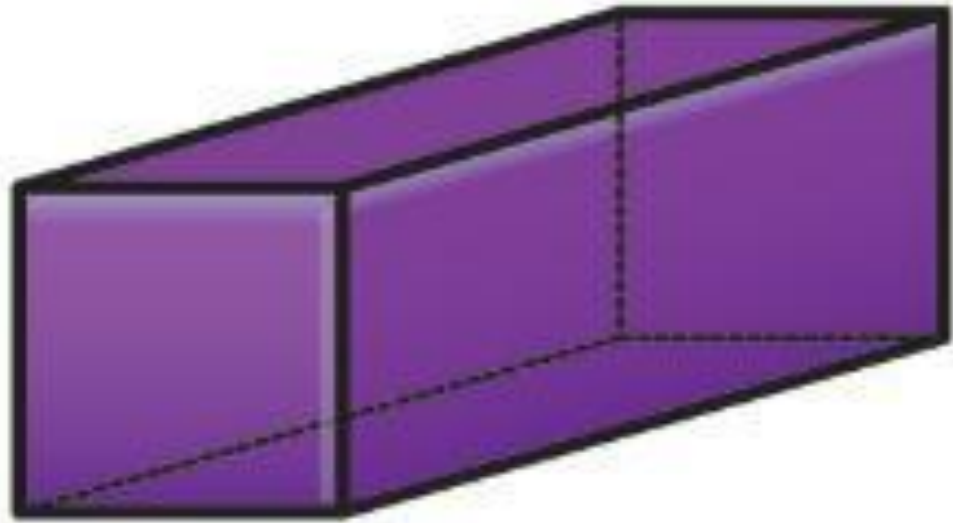
**Activité
ritualisée**

Séance 8



**Activité
ritualisée**

Séance 8



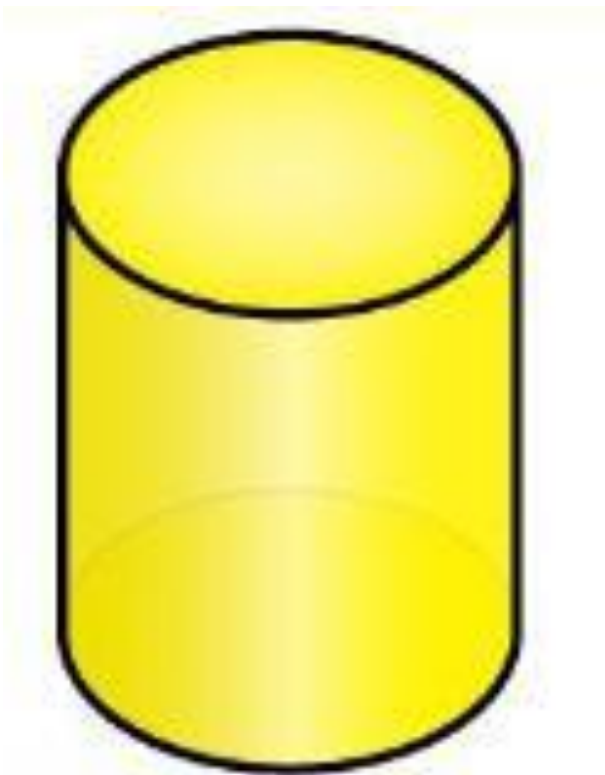
**Activité
ritualisée**

Séance 8



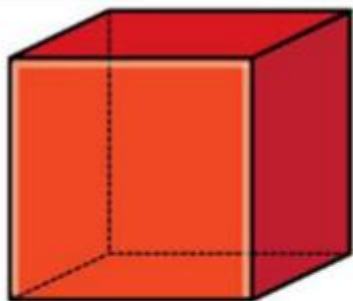
**Activité
ritualisée**

Séance 8



CORRECTION

Consigne 1 : Observe les solides. **Ecris** le nom du solide et son nombre de faces.

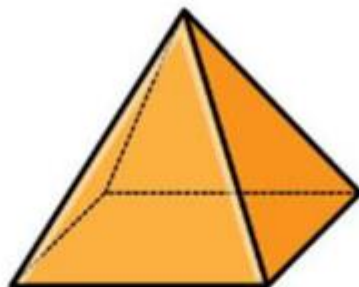


Nom du solide :

Un cube

Nombre de faces :

6 faces

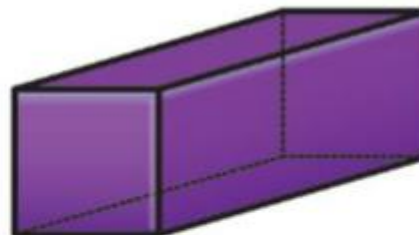


Nom du solide :

Une pyramide

Nombre de faces :

5 faces



Nom du solide :

Un pavé droit

Nombre de faces :

6 faces




Nom du solide :

Une sphère

Nombre de faces :

1 face



Nom du solide :

Un cylindre

Nombre de faces :


3 faces

Activité
ritualisée

A faire sur la fiche d'exercices ou le cahier du jour

Séance 7 Consigne 2. Observe ces images.

Ces images sont toutes de la même taille mais
représentent des objets de taille différente.



éléphant



surligneur




monsieur

Activité
ritualisée

A faire sur la fiche d'exercices ou le cahier du jour

Consigne 3. Classe les objets du plus petit au plus grand. Ecris l'unité que l'on utiliserait pour mesurer chaque objet.



éléphant



surligneur



monsieur

CORRECTION




Le surligneur :

On utiliserait les Centimètres et les millimètres.



L'homme :

On utiliserait le mètre et les centimètres



L'éléphant :

On utiliserait le mètre et les centimètres.

calcul mental

Consigne 4. Calcule.
(Tu as 3 minutes pour réaliser le maximum de calculs).

Inscris 3min sur ton minuteur et c'est parti ! Si un calcul est trop compliqué passe au suivant, tu reviendras dessus s'il te reste du temps.

CHRONOMATH 9



3 min

1 Double de 2 = ... 11 Moitié de 4 = ... 21 $3 \times 1000 = \dots$

2 Double de 4 = ... 12 Moitié de 6 = ... 22 $19 \times 10 = \dots$

3 Double de 5 = ... 13 Moitié de 10 = ... 23 $13 \times 100 = \dots$

4 Double de 7 = ... 14 Moitié de 8 = ... 24 $807 \times 10 = \dots$

5 Double de 8 = ... 15 Moitié de 20 = ... 25 $82 \times 100 = \dots$

6 Double de 10 = ... 16 Moitié de 16 = ... 26 $25 \times 20 = \dots$

7 Double de 20 = ... 17 Moitié de 18 = ... 27 $201 \times 20 = \dots$

8 Double de 30 = ... 18 Moitié de 50 = ... 28 $205 \times \dots = 2050$

9 Double de 50 = ... 19 Moitié de 40 = ... 29 $9 \times \dots = 9\ 000$

10 Double de 100 = ... 20 Moitié de 100 = ... 30 $2 \times 5 \times 5 = \dots$

SCORE :

CE2

CORRECTION

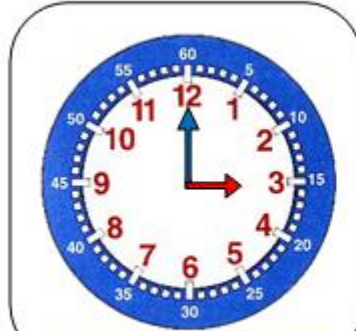
CHRONOMATH 9 : réponse

1	4	11	2	21	3000
2	8	12	3	22	190
3	10	13	5	23	1300
4	14	14	4	24	8070
5	16	15	10	25	8200
6	20	16	8	26	500
7	40	17	9	27	4020
8	60	18	25	28	10
9	100	19	20	29	1 000
10	200	20	50	30	50

A faire sur la fiche ou le cahier

Aide :
Relis ta
leçon
sur
l'heure

1 Indique l'heure. C'est le matin.



.....h.....min

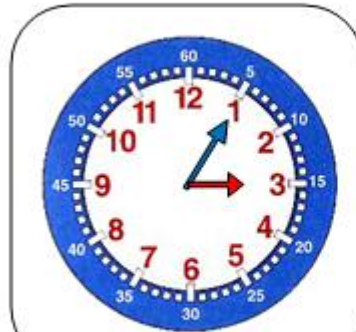


.....h.....min



.....h.....min

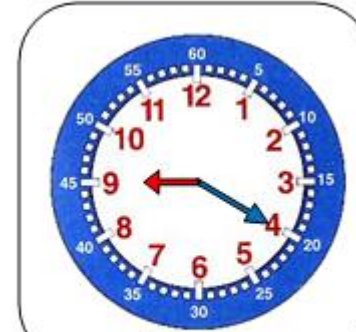
2 Indique l'heure. C'est l'après-midi.



.....h.....min



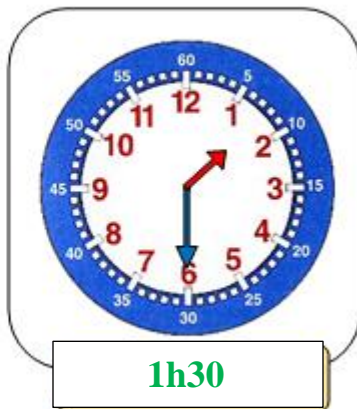
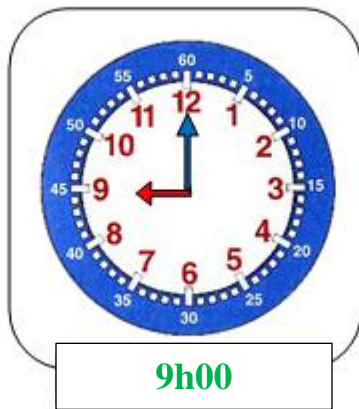
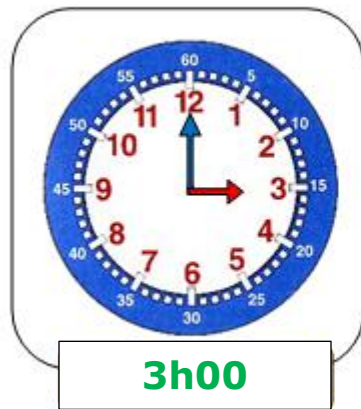
.....h.....min



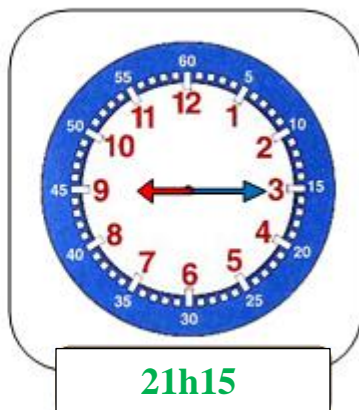
.....

CORRECTION

1 Indique l'heure. C'est le matin.

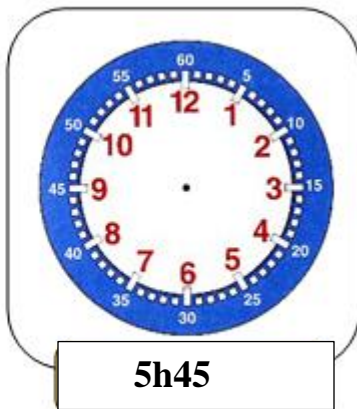
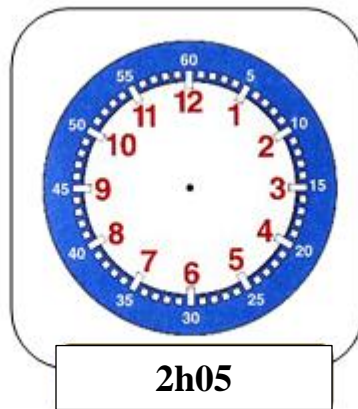
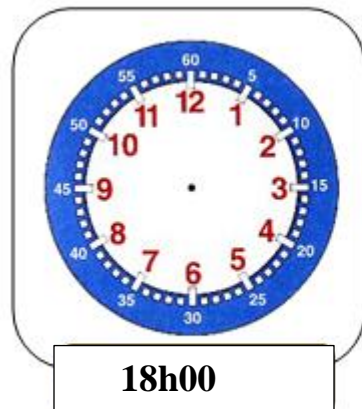


2 Indique l'heure. C'est l'après-midi.

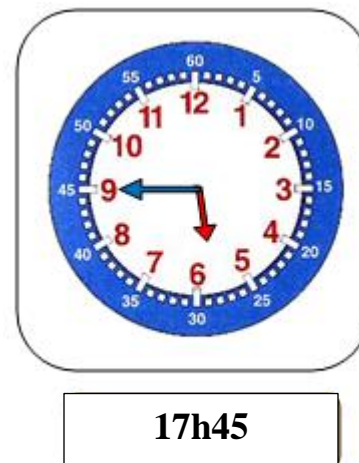
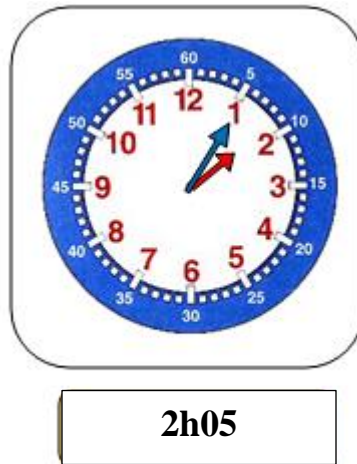
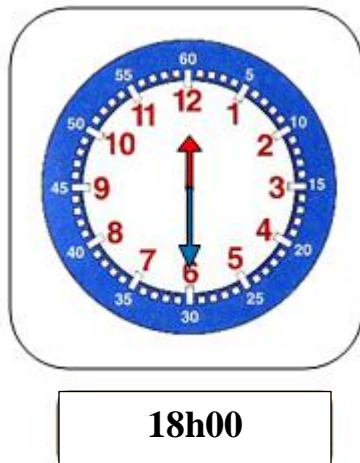
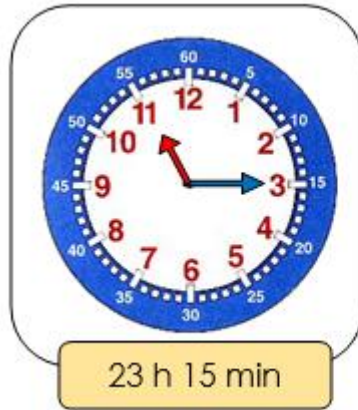


A faire sur la fiche d'exercices ou le cahier

3 Lis l'heure indiquée et place les aiguilles.



CORRECTION



Consigne 6. Poursuis ton travail. Fais les 2 exercices suivants dans ton fichier Carte au trésor.



1	2	3	4	5
6	7	8	9	10
11	12	13	14	15
16	17	18	19	20

Comment faire ?

Tu prends une carte de France.



Tu suis les différentes étapes en effectuant les tracés sur la carte de France, avec un crayon et une règle.

Tu notes la ville où se cache le trésor.

Comment faire cet exercice ?

1. Le travail est à réaliser sur la carte de France (document ci-joint)
2. Lis chaque étape pour réaliser les tracés sur la carte avec un crayon, une règle, un compas ou une équerre.
3. Note la ville où se cache le trésor.

C'est tout pour
aujourd'hui.

A demain.