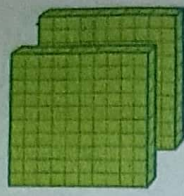


1 millier
1 000



2 centaines
+ 200



4 dizaines
+ 40

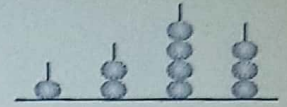


3 unités
+ 3 = 1 243

mille deux cent quarante-trois

m	c	d	u
1	2	4	3

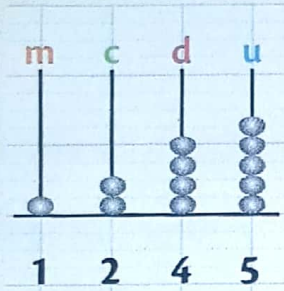
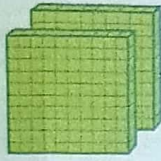

Sur un abaque :
m c d u



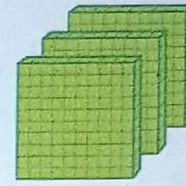
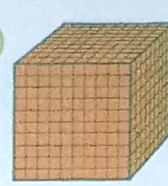
J'applique

1 Représente les nombres sur des abaques et écris-les en chiffres comme dans l'exemple.


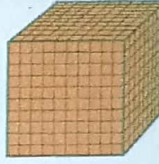
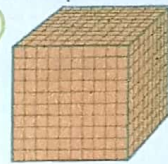
Exemple :



a)



b)



2 Écris les nombres en chiffres.

a) 7 milliers, 2 centaines, 5 dizaines et 6 unités

b) 3 milliers et 1 unité

c) 5 milliers et 1 dizaine

3 Sur ton cahier, complète comme dans l'exemple.

6 891 = 6 000 + 800 + 90 + 1 = six mille huit cent quatre-vingt-onze

a) 4 366 = =

c) = 5 000 + 700 =

b) 2 150 = =

d) = = trois mille vingt-six



4 Trouve la règle, puis écris les suites sur ton cahier.

a) 6 797, 6 798,,,

b) 1 167, 1 177,,,

c) 3 299, 3 199,,,

Je retiens

Les règles pour écrire les nombres

• Le mot « mille » est invariable : il ne prend jamais de « s ».

1 000 : mille 2 000 : deux mille 4 141 : quatre mille cent quarante et un

• On ne met pas de tirets autour du mot « mille ».

5 363 : cinq mille trois cent soixante-trois

On laisse un espace entre le chiffre des milliers et le chiffre des centaines : on écrit 4 125 et non 4125.

