


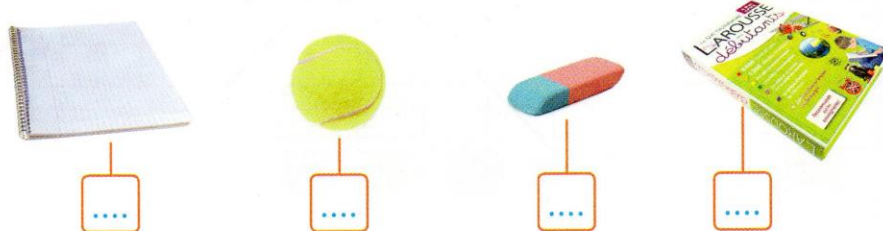


.....



DÉCOUVRONS ENSEMBLE

1 Numérote les objets en les rangeant du plus léger au plus lourd.



2 Qui a raison ?

Les 5 pommes pèsent plus lourd que les 2 melons.



Mais non, regarde la balance.

JE M'ENTRAINE

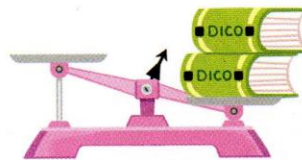
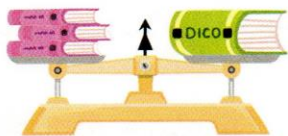
3 Fais une croix sous l'objet le plus lourd.



4 Fais une croix sous l'objet le plus léger.



5



• Complète avec : plus lourd que autant que moins lourd que

Le dictionnaire pèse les 3 livres roses.

• Pour mettre en équilibre la balance rose, combien de livres faut-il mettre sur le plateau vide ?

> Exercices d'entraînement GUIDE

Objectif : se familiariser avec la balance à plateaux pour comparer des masses.

Manipulation GUIDE ► Comparer les masses de 2 objets en les soupesant puis à l'aide d'une balance par comparaison directe.

CALCUL MENTAL ► Jeu de la centaine (2) : voir page 50.