

7 Construire des angles droits

Reproduire des figures

CALCUL MENTAL




DÉCOUVRONS ENSEMBLE




Regarde comment on trace un angle droit à partir du point **vert**.

Tu places ton équerre au point **vert** sur le segment déjà tracé.

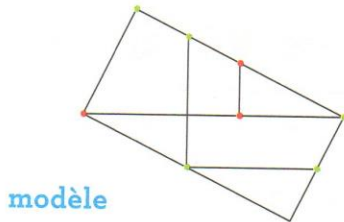


Tu marques un point **rouge** le long de l'équerre.

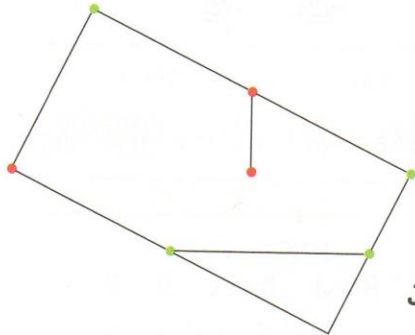


Tu enlèves l'équerre. Tu joins à la règle le point **vert** et le point **rouge**.

- 1 Repère les angles droits sur la figure **modèle**.
Complète la figure **J** pour qu'elle soit un agrandissement du **modèle**.
Utilise ta règle et ton équerre.



modèle

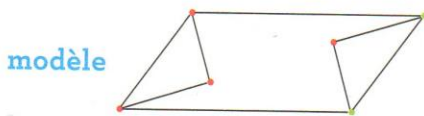


J




JE M'ENTRAÎNE

- 2 Repère les angles droits sur la figure **modèle**.
Complète la figure **L** pour qu'elle soit un agrandissement du **modèle**.
Utilise ta règle et ton équerre.



modèle



L

> Exercices d'entraînement GUIDE

Objectif : construire des angles droits. Restaurer des figures en traçant les segments qui manquent.
Manipulation GUIDE ► Apprendre à tracer un angle droit avec une équerre en papier (ou un gabarit).

CALCUL MENTAL ► Jeu du compte est bon : voir page 66.