

Avec son horloge compléter les cadrans numériques et les aiguilles

En C et D,
l'information
dans l'image
lève le doute.

En B et F,
l'interprétation
de l'image est
nécessaire
pour trouver
l'affichage
numérique



12:00



..... :



..... :



..... :



20:30



..... :

- Retrouve l'ordre des événements de la journée de Jeanne.


Écris leurs lettres dans l'ordre : C.....

- Sous chaque image, **complète** l'affichage numérique de l'heure.




Exercice


Place les aiguilles.




8 heures



11 heures



15 heures



20 heures