

Plan de travail du jeudi 26 mars.

Découverte du monde

Quel jour sommes-nous aujourd'hui ?

Quel jour étions-nous hier ?

Quel jour serons-nous demain ?

Numération

Continue la suite des nombres :

26	27							
47	48							
58	59							

Ecris tous les nombres entre 35 et 41 puis entre 57 et 63

Exemple : tous les nombres entre 8 et 12 : 8-9-10-11-12

Compte à l'envers à partir de 20 le plus vite possible.

Relie les nombres aux mots-nombres

57 •

36 •

63 •

47 •

17 •

• quarante-sept

• dix-sept

• soixante-trois




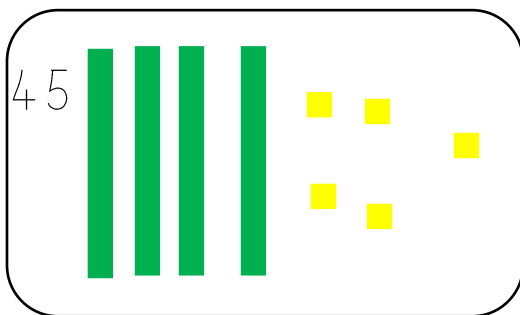
• trente-six

• cinquante-sept

Trouve les nombres cachés

0	1	2	3	4	5	6	7		
10	11	12	13	14	15		17	18	19
20	21		23	24	25	26	27	28	29
30	31	32		34		36	37	38	
	41	42	43	44	45	46		48	49
50		52	53		55	56	57	58	59
60	61		63	64	65		67	68	69

Dessine les unités et les barres de 10 comme dans l'exemple :



Calculs

Calcul mental : (Vidéo à regarder)

$6 + \dots = 10$

$1 + \dots = 10$

$4 + \dots = 10$

$5 + \dots = 10$

$9 + \dots = 10$

$8 + \dots = 10$

$3 + \dots = 10$

$2 + \dots = 10$

$7 + \dots = 10$

Calcul mental :

$8 - 3 =$

$7 - 3 =$

$3 - 3 =$

$6 - 3 =$

$5 - 3 =$

$10 - 3 =$

$4 - 3 =$

$9 - 3 =$

Problème

Lilou a 26 billes. A la récréation du matin, elle en a gagné 13.
Combien de billes a-t-elle le soir en rentrant chez elle ?

Zone de calcul ou de dessin :

Phrase réponse :

En rentrant chez elle, Lilou a billes.

