

Plan de travail du jeudi 26 mars.

Découverte du monde

Quel jour sommes-nous aujourd'hui ? jeudi 26 mars

Quel jour étions-nous hier ? mercredi 25 mars

Quel jour serons-nous demain ? vendredi 27 mars

Numération

Continue la suite des nombres :

26	27	28	29	30	31	32	33	34
47	48	49	50	51	52	53	54	55
58	59	60	61	62	63	64	65	66

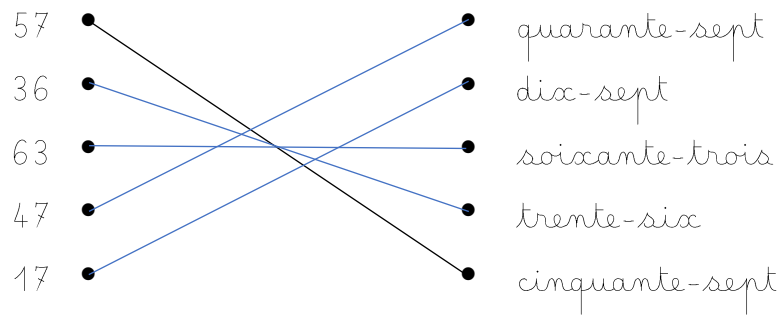
Ecris tous les nombres entre 35 et 41 puis entre 57 et 63

Exemple : tous les nombres entre 8 et 12 : 8-9-10-11-12

35 36 37 38 39 40 41 et 57 58 59 60 61 62 63

Compte à l'envers à partir de 20 le plus vite possible.

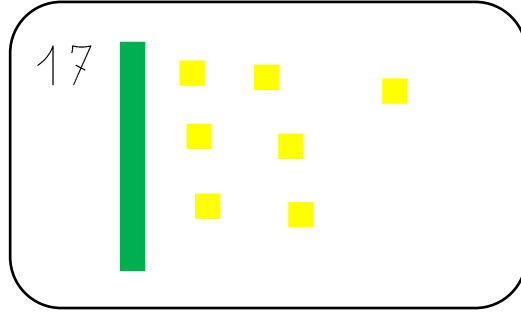
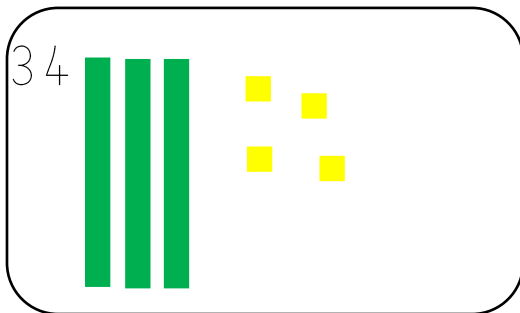
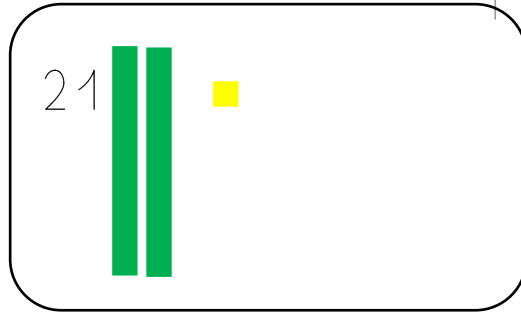
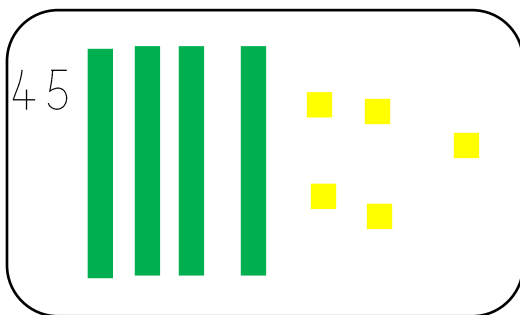
Relie les nombres aux mots-nombres



Trouve les nombres cachés

0	1	2	3	4	5	6	7	8	9
10	11	12	13	14	15	16	17	18	19
20	21	22	23	24	25	26	27	28	29
30	31	32	33	34	35	36	37	38	39
40	41	42	43	44	45	46	47	48	49
50	51	52	53	54	55	56	57	58	59
60	61	62	63	64	65	66	67	68	69

Dessine les unités et les barres de 10 comme dans l'exemple :



Calculs

Calcul mental : (Vidéo à regarder)

$6+4=10$

$1+9=10$

$4+6=10$

$5+5=10$

$9+1=10$

$8+2=10$

$3+7=10$

$2+8=10$

$7+3=10$

Calcul mental :

$8-3=5$

$7-3=4$

$3-3=0$

$6-3=3$

$5-3=2$

$10-3=7$

$4-3=1$

$9-3=6$

Problème

Lilou a 26 billes. A la récréation du matin, elle en a gagné 13.
Combien de billes a-t-elle le soir en rentrant chez elle ?

Zone de calcul ou de dessin :

$26+13=39$

L'élève peut surcompter : 26 dans la tête puis on lève 13 doigts (ce qui implique de mémoriser que l'on a passé une dizaine quand on a compté ses deux mains), on arrive à 39

L'élève peut dessiner puis tout compter.

Phrase réponse :

En rentrant chez elle, Lilou a 39 billes.