

Plan de travail du mardi 31 mars

Découverte du monde

Quel jour sommes-nous aujourd'hui ?

Quel jour étions-nous hier ?

Quel jour serons-nous demain ?

Numération

Continue la suite des nombres :

36	38	40											
17	19	21											
50	52	54											

Trouve tous les nombres que l'on peut écrire avec ces mots-nombres et écris les en chiffre :

Huit un et cinquante trente

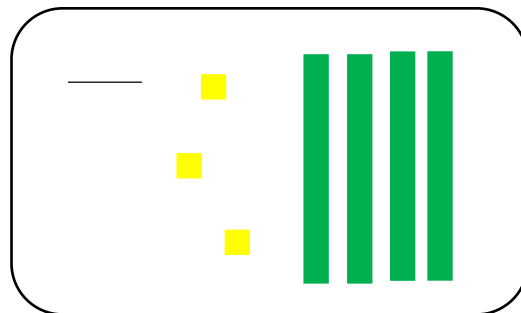
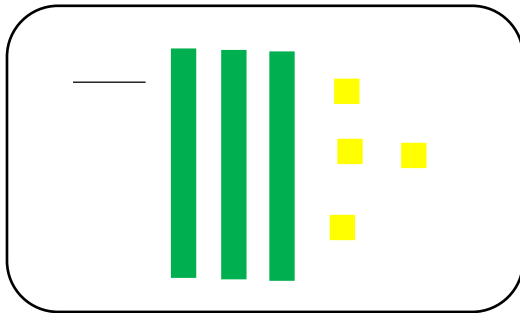


Compte à l'envers à partir de 13 le plus vite possible.

Relie les nombres aux mots-nombres

13 •
36 •
63 •
26 •
33 •

• trente-six
• soixante-trois
• trente-trois
• vingt-six
• treize

Qui suis-je ?



Calculs

Calcul mental : (Vidéo à regarder) (même exercice mais ça doit devenir automatique)

$6 + \dots = 10$

$1 + \dots = 10$

$4 + \dots = 10$

$5 + \dots = 10$

$9 + \dots = 10$

$8 + \dots = 10$

$3 + \dots = 10$

$2 + \dots = 10$

$7 + \dots = 10$

Calcul mental :

$8-5=$

$7+2=$

$4-2=$

$6+4=$

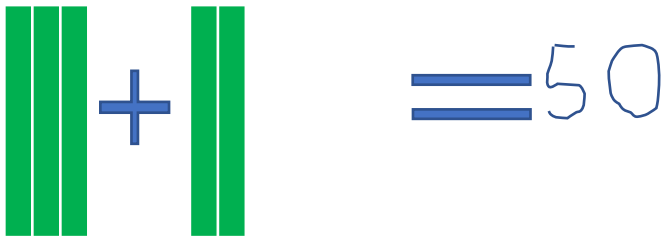
$5+3=$

$12-7=$


$9+4=$

$11-5=$

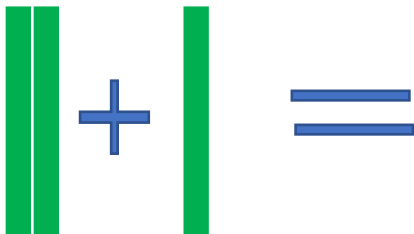
Trouve la réponse comme dans l'exemple :



A visual equation using base ten blocks. On the left, there are three tens rods (each composed of ten ones units) and two more tens rods, with a blue plus sign between them. To the right of the plus sign is an equals sign followed by the number 50, where the 5 and 0 are written in blue.



A visual equation using base ten blocks. On the left, there are three tens rods and two more tens rods, with a blue plus sign between them. To the right of the plus sign is an equals sign, followed by two horizontal blue lines representing a blank space for the answer.



A visual equation using base ten rods. On the left, there are three tens rods and one more tens rod, with a blue plus sign between them. To the right of the plus sign is an equals sign, followed by two horizontal blue lines representing a blank space for the answer.

Problème

Lilou a 49 billes. A la récréation du matin, elle en a perd 7.
Combien de billes a-t-elle le soir en rentrant chez elle ?

Zone de calcul ou de dessin :

Phrase réponse :

En rentrant chez elle, Lilou a billes.

Lecture Drôle d'année pour Zoé.

J'ai remis à votre enfant un livre intitulé : Drôle d'année pour Zoé. Nous allons donc commencer sa lecture petit à petit accompagné d'un travail de compréhension.

Aujourd'hui, lire de la page 12 à 29 puis répondre au questionnaire