

Plan de travail du mardi 31 mars

Découverte du monde

Quel jour sommes-nous aujourd'hui ? mardi 31 mars

Quel jour étions-nous hier ? lundi 30 mars

Quel jour serons-nous demain ? mercredi 1^{er} avril

Numération

Continue la suite des nombres :

36	38	40	42	44	46	48	50	52	54	56	58	60	62
17	19	21	23	25	27	31	33	35	37	39	41	43	45
50	52	54	56	58	60	62	64	66	68	70	72	74	76

La dernière ligne n'a peut-être pas été réussie par tout le monde. Elle permet toutefois d'observer si votre enfant a compris le principe de numération (dizaine et unité) même s'il ne sait pas nommer les nombres

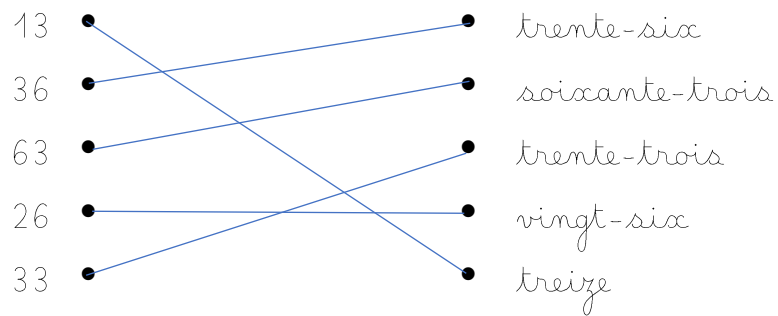
Trouve tous les nombres que l'on peut écrire avec ces mots-nombres et écris les en chiffre :

Huit un et cinquante trente





Huit 8 ; un 1 ; trente 30 ; trente et un 31 ; trente-huit 38 ; cinquante 50 ; cinquante et un 51 ; cinquante-huit 58

Compte à l'envers à partir de 13 le plus vite possible.

Relie les nombres aux mots-nombres



Qui suis-je ?



Calcul mental : (Vidéo à regarder) (même exercice mais ça doit devenir automatique)

$6 + 4 = 10$

$1 + 9 = 10$

$4 + 6 = 10$

$5 + 5 = 10$

$9 + 1 = 10$

$8 + 2 = 10$

$3 + 7 = 10$

$2 + 8 = 10$

$7 + 3 = 10$

Calcul mental :

$8 - 5 = 3$

$7 + 2 = 9$

$4 - 2 = 2$

$6 + 4 = 10$

$5 + 3 = 8$

$12 - 7 = 5$

$9 + 4 = 13$

$11 - 5 = 6$

Trouve la réponse comme dans l'exemple :

3 tens rods + 2 tens rods = 50

3 tens rods + 3 tens rods = 60

$$20 + 10 = 30$$

Problème

Lilou a 49 billes. A la récréation du matin, elle en a perd 7.
Combien de billes a-t-elle le soir en rentrant chez elle ?

Zone de calcul ou de dessin :

$$49 - 7 = 42$$

Phrase réponse :

En rentrant chez elle, Lilou a 42 billes.

Lecture Drôle d'année pour Zoé.

J'ai remis à votre enfant un livre intitulé : Drôle d'année pour Zoé. Nous allons donc commencer sa lecture petit à petit accompagné d'un travail de compréhension.

Aujourd'hui, lire de la page 12 à 29 puis répondre au questionnaire