












# Les moitiés

	 <p>La moitié de 12 □ ?</p>	 <p>La moitié de 18 □ ?</p>	
 <p>La moitié de 8 □ ?</p>	<p>4</p> <p>6</p>	<p>9</p> <p>3</p>	 <p>La moitié de 6 □ ?</p>
 <p>La moitié de 14 □ ?</p>	<p>7</p> <p>5</p>	<p>10</p> <p>8</p>	 <p>La moitié de 20 □ ?</p>
	 <p>La moitié de 10 □ ?</p>	 <p>La moitié de 16 □ ?</p>	