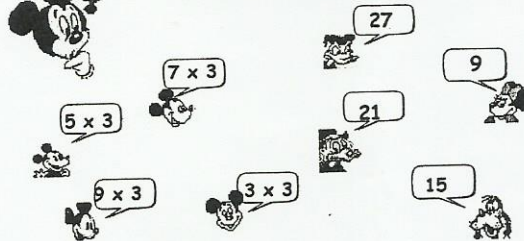


Exerce la table de 3 avec Mickey !



Qui donne la réponse correcte à Mickey?
Colorie en même couleur!



Effectue les multiplications:

$6 \times 3 = \underline{\quad}$

$1 \times 3 = \underline{\quad}$

$0 \times 3 = \underline{\quad}$

$4 \times 3 = \underline{\quad}$

$10 \times 3 = \underline{\quad}$

$9 \times 3 = \underline{\quad}$

$7 \times 3 = \underline{\quad}$

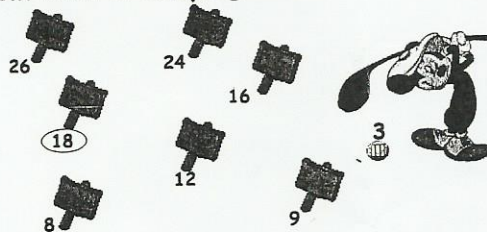
$5 \times 3 = \underline{\quad}$

$2 \times 3 = \underline{\quad}$

$8 \times 3 = \underline{\quad}$

$3 \times 3 = \underline{\quad}$

Mickey joue au golf. Colorie les trous qui sont dans le comptage de 3.



Problèmes:

- Mickey reçoit chaque semaine 3 billes. Combien de billes est-ce qu'il a après 6 semaines?

- Mickey rend visite à Minnie Mouse 3 fois par jour. Ce sont combien de visites après 2 jours?

Complète:

$\underline{\quad} \times 3 = 12$

$\underline{\quad} \times 3 = 0$

$\underline{\quad} \times 3 = 9$


$\underline{\quad} \times 3 = 21$

$\underline{\quad} \times 3 = 15$

Exerce la table de 3 avec Mickey !



Qui donne la réponse correcte à Mickey?
Colorie en même couleur!



Effectue les multiplications:

$$6 \times 3 = 18$$

$$1 \times 3 = 3$$

$$0 \times 3 = 0$$

$$4 \times 3 = 12$$

$$10 \times 3 = 30$$

$$9 \times 3 = 27$$

$$7 \times 3 = 21$$


$$5 \times 3 = 15$$

$$2 \times 3 = 6$$

$$8 \times 3 = 24$$

$$3 \times 3 = 9$$

Mickey joue au golf. Colorie les trous qui sont dans le comptage de 3.



Complète:

$$4 \times 3 = 12$$

$$0 \times 3 = 0$$

$$3 \times 3 = 9$$

$$7 \times 3 = 21$$

$$5 \times 3 = 15$$

Problèmes:

- Mickey reçoit chaque semaine 3 billes. Combien de billes est-ce qu'il a après 6 semaines?

$$3 \times 6 = 18 \rightarrow \text{Il a } 18 \text{ billes.}$$

- Mickey rend visite à Minnie Mouse 3 fois par jour.

Ce sont combien de visites après 2 jours?

$$3 \times 2 = 6 \rightarrow \text{Cela fait } 6 \text{ visites.}$$